



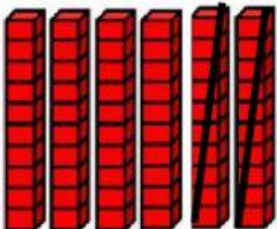

Sumas y restas con decenas y unidades.

Nombre _____ fecha: _____

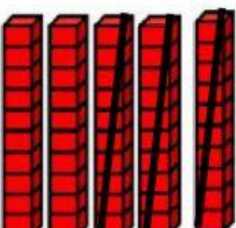

1.- Observa cada operación y realízala en forma correcta.

Decenas	Unidades
	





	D	U
○		

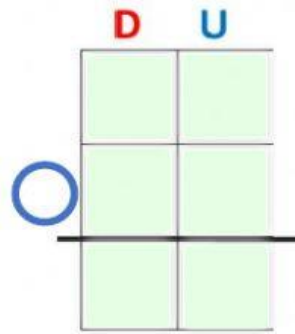
Decenas	Unidades
	





	D	U
○		

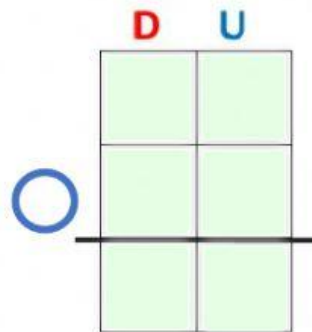
Decenas	Unidades
	




	D	U
○		

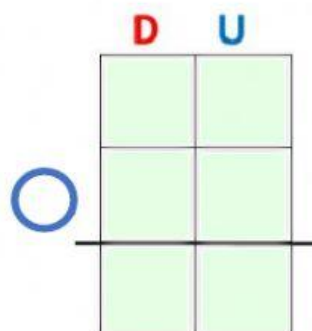
Decenas	Unidades
	
	



Decenas	Unidades
	
	



Decenas	Unidades
	
	



2.- Resuelve correctamente estas sumas y restas.

	D	U
	5	5
+	2	1
<hr/>		

	D	U
	3	0
+	3	0
<hr/>		

	D	U
	2	4
+	7	1
<hr/>		

	D	U
	9	5
⊖	3	2
<hr/>		

	D	U
	8	9
⊖		9
<hr/>		

	D	U
	6	7
⊖	2	0
<hr/>		

3.- Resuelve estos problemas.

a) María compró 23 chocolates le regaló 12 a su amiga.

¿Cuántos chocolates tiene María ahora?

Datos	Razonamiento	Operación	Respuesta								
<div style="border: 1px solid black; width: 50px; height: 20px; margin-bottom: 5px;"></div> <div style="border: 1px solid black; width: 50px; height: 20px; margin-bottom: 5px;"></div> <div style="border: 1px solid black; width: 50px; height: 20px; margin-bottom: 5px;"></div> <div style="border: 1px solid black; width: 50px; height: 20px;"></div>	<p>Tengo que hacer una</p> <div style="border: 1px solid black; width: 150px; height: 30px; margin-top: 10px;"></div>	<div style="text-align: center;"> <div style="display: flex; justify-content: space-around; width: 100px;"> D U </div> <table border="1" style="margin: 10px auto; width: 100px;"> <tr><td></td><td></td></tr> <tr><td></td><td></td></tr> <tr><td></td><td></td></tr> <tr><td></td><td></td></tr> </table> </div>									<div style="border: 1px solid black; width: 150px; height: 20px; margin-bottom: 10px;"></div> <div style="border: 1px solid black; width: 50px; height: 20px; margin: 0 auto;"></div>

b) Juan y Ramón son amigos, Ramón tiene 45 bolitas y Juan tiene 10 bolitas. ¿Cuántas bolitas tienen entre los dos?

Datos	Razonamiento	Operación	Respuesta
<div><div></div><div></div><div></div><div></div></div>	<div>Tengo que hacer una</div> <div></div>	<div><div>D</div><div>U</div></div> <div><div></div><div></div><div></div><div></div></div>	