

ULANGAN HARIAN TEMA 2 SUBTEMA 1 (GEMAR BEROLAHRAGA)

NAMA :

KELAS :

Ppkn 3.2 Mengidentifikasi aturan yang berlaku dalam kehidupan sehari - hari di rumah

Bhs Indonesia 3.5 Mengenal kosakata tentang cara memelihara Kesehatan melalui teks pendek (berupa gambar, tulisan, dan slogan sederhana) dan /eksplorasi lingkungan

Matematika 3.4 menjelaskan dan melakukan penjumlahan dan pengurangan bilangan yang melibatkan bilangan cacah sampai dengan 99

Sbdp 3.2 Mengenal elemen music melalui lagu

I. Klik huruf A,B dan C Pada jawaban yang benar !

1. Beni bermain catur dengan Edo.

Ternyata Beni kalah , maka sikap Beni sebaiknya

- Menghargai kemenangan Edo
- Marah kepada Edo
- Menuduh Edo curang

2. Yang termasuk Perbuatan mematuhi peraturan di bawah ini adalah

- Marah karena kalah
- Meletakkan sepatu sesuka hati
- Berbaris rapi sebelum berolah raga

3. Mematuhi aturan dalam permainan akan membuat permainan menjadi....


- Lambat
- menyenangkan
- Cepat

4. Selesai bermain Siti meletakkan sandal di

- Depan pintu
- Rak sepatu
- Sesuka hati

5. Yang termasuk permainan menyehatkan pada gambar di bawah adalah....

a.



b.



c.



6. Olahraga dapat membuat tubuh menjadi


- a. Mudah sakit
- b. Sehat
- c. Terluka

7. Walaupun Olahraga kegemaran mereka ... , mereka sering berolahraga Bersama.

- a. Berubah
- b. Berbeda
- c. Sama

8. Sebelum berolahraga sebaiknya kita melakukan

- a. pemanasan
- b. pendinginan
- c. makan dan minum

9.  Banyak anak pada gambar di samping ada... .

- a. 4
- b. 5
- c. 9

10. bentuk kalimat penjumlahan berdasarkan gambar no 9 adalah....

- a. $5 + 4 = 9$
- b. $6 + 3 = 9$
- c. $7 + 2 = 9$

11. $7 + \dots = 10$

Bilangan yang tepat untuk melengkapi penjumlahan di atas adalah...

- a. 1
- b. 2
- c. 3

12. Udin membawa 6 bola, Beni membawa 8 bola.

Banyak bola seluruhnya ada... .

- a. 13
- b. 14
- c. 15

13. Bunyi alam berasal dari...

- a. Suara alam
- b. Suara manusia
- c. Suara benda

14. Suara seruling adalah contoh bunyi yang di hasilkan...

- a. Alam
- b. Manusia
- c. Hewan

15. Alat musik dibawah di bunyikan dengan cara...




- a. dipetik
- b. digesek
- c. dipukul

16. suara gemericik air berasal dari bunyi...

- a. Alam
- b. Buatan
- c. Alam dan buatan

II . Jawab pertanyaan di bawah dengan singkat!

17. Tata tertib disebut juga...

18.  Olahraga kegemaran Beni adalah...

19.



.... Pasang sepatu + Pasang sepatu = ... pasang sepatu

20. suara pluit, suara pintu di ketuk termasuk bunyi