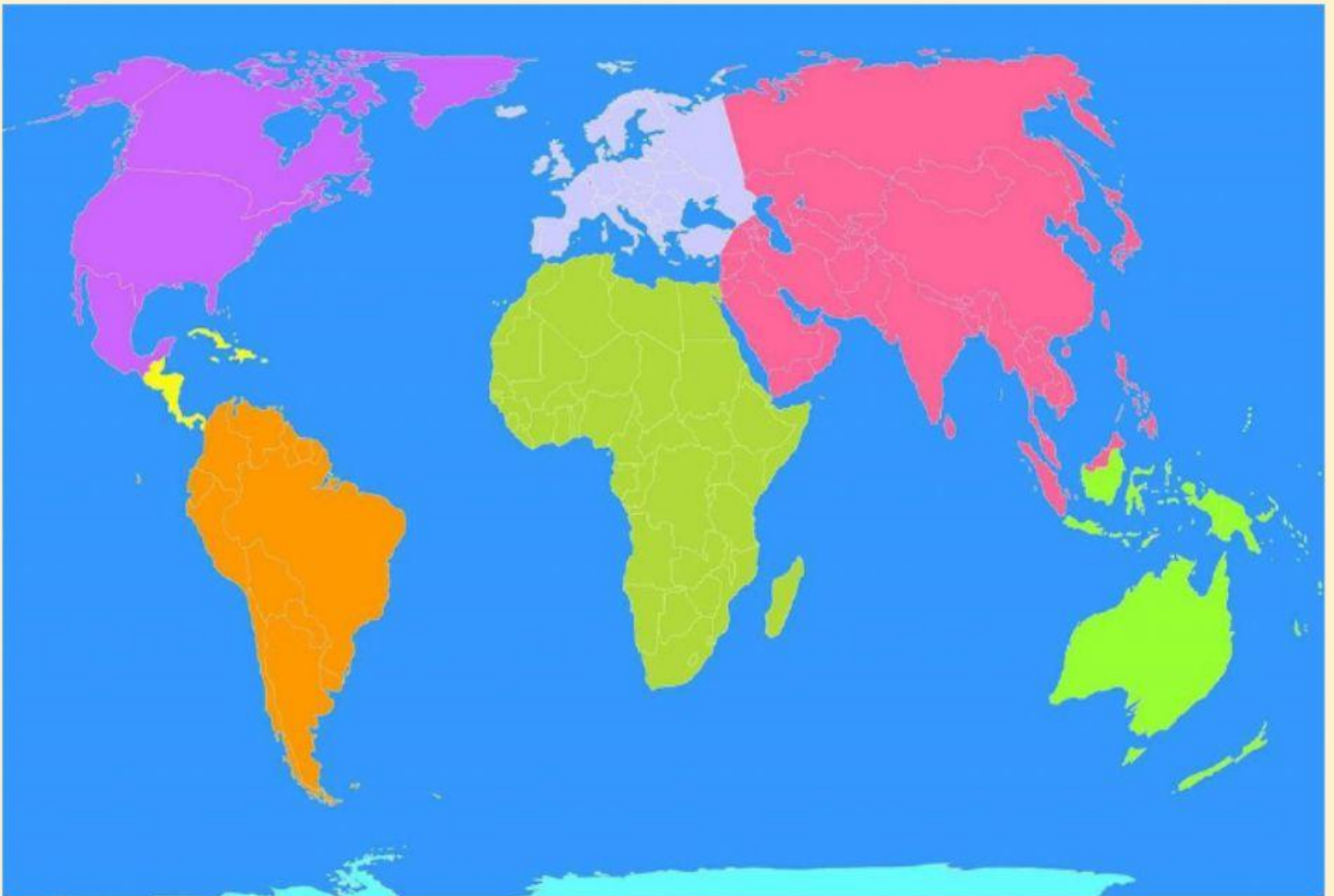


# Examen bimestral de personal social

1. Arrastra el nombre de cada continente según su ubicación:



**Oceanía**

**África**

**Asia**


**América**

**Antártida**

**Europa**

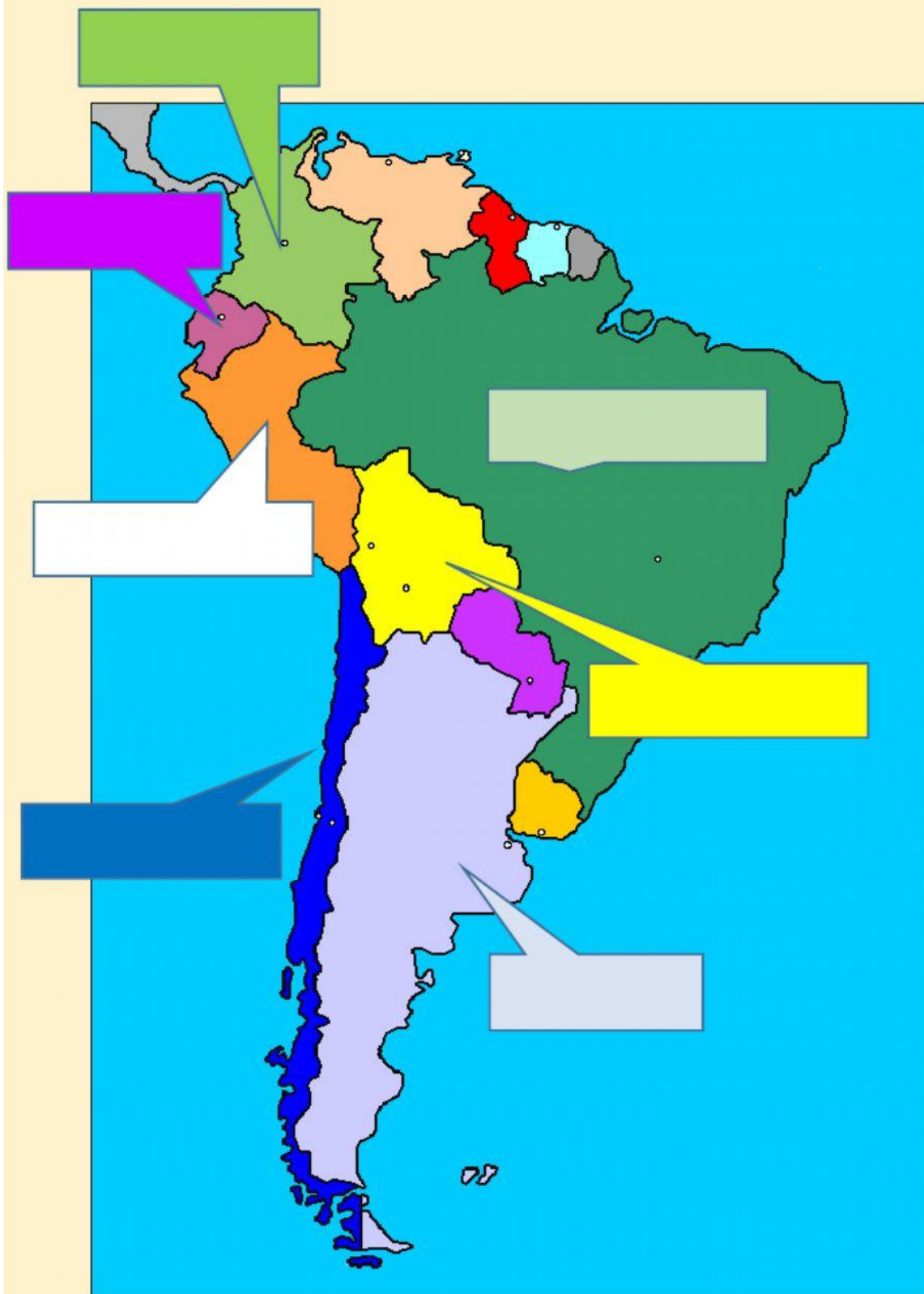
2. Observa las imágenes e identifica seleccionando a qué continente pertenece:





3. En el siguiente mapa identifica los nombre de los países seleccionando la respuesta correcta:





4. En la siguiente imagen arrastra las regiones del Perú según corresponda:

**SELVA**

**MAR  
PERUANO**

**SIERRA**

**COSTA**



5. Une con una flecha según la vivienda de cada región:

**COSTA**

**SELVA**

**SIERRA**



6. Coloca "V" verdadero o "F" falso según corresponda:

1. Japón está ubicado en el continente asiático	
2. El país más pequeño de América es del Sur es Perú	
3. El país más grande América del Norte es Brasil	
4. El Perú está ubicado al norte del continente americano.	
5. El Perú está dividido por 24 departamentos y 25 regiones.	
6. Tumbes y Piura pertenecen a la región costa del Perú	
7. Los valles son zonas desérticas poco productivas.	
8. El departamento más grande del Perú es Cusco	