
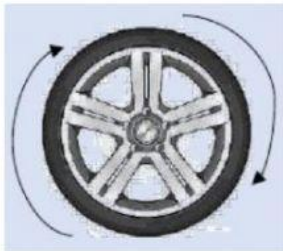


# HOJA DE TRABAJO.


1. UNE CON UNA LINEA, LAS IMÁGENES QUE CORRESPONDE AL MOVIMIENTO CIRCULAR UNIFORME Y LOS QUE NO CORRESPONDEN.



Movimiento circular  
uniforme



Movimiento parabólico



Movimiento de caída  
Libre

2. Marque la respuesta correcta. En el movimiento circular Uniforme

La velocidad es  
variable

Se describe una  
trayectoria circular

Recorre longitudes  
diferentes en tiempos  
diferentes

3. Escoja la respuesta correcta:

Un giro de  $360^\circ$  es equivalente a:

4 vueltas

$2\pi \text{ rad}$

5 revoluciones