




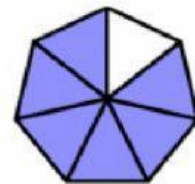
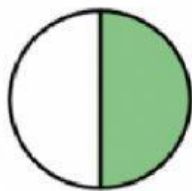


# EXAMEN DE ARITMÉTICA.

I. -Escribe la fracción que se representa:



II. -Arrastra la fracción a donde corresponda:



$\frac{4}{7}$	$\frac{6}{7}$	$\frac{1}{2}$
$\frac{5}{6}$	$\frac{1}{10}$	$\frac{1}{6}$

III. - Suma o resta las siguientes fracciones:

$$\frac{15}{3} - \frac{9}{3} + \frac{9}{3} = \underline{\quad - \quad + \quad} = \underline{\quad}$$

$$\frac{17}{22} + \frac{12}{22} - \frac{10}{22} = \underline{\quad + \quad - \quad} = \underline{\quad}$$

$$\frac{3}{5} + \frac{7}{10} = \underline{\quad + \quad} = \underline{\quad}$$

$$\frac{9}{11} - \frac{2}{22} = \underline{\quad - \quad} = \underline{\quad}$$

IV. - Escribe como se leen las siguientes fracciones:

$$\frac{2}{7} \longrightarrow \underline{\hspace{10cm}}$$

$$\frac{3}{12} \longrightarrow \underline{\hspace{10cm}}$$

$$\frac{6}{100} \longrightarrow \underline{\hspace{10cm}}$$

$$\frac{12}{19} \longrightarrow \underline{\hspace{10cm}}$$

V.-Resuelve los siguientes problemas y marca la respuesta correcta.

1.-Para preparar un pastel de chocolate Sara compró  $\frac{7}{9}$  de una taza de leche. Si solo usó  $\frac{3}{9}$ , ¿Qué cantidad de leche le queda?

a)  $\frac{3}{5}$

b)  $\frac{7}{10}$

c)  $\frac{4}{9}$

2.-Luis y Jorge pidieron dos pizzas. De una comieron  $\frac{1}{4}$  y de la otra,  $\frac{3}{8}$  ¿Cuánta pizza comieron en total?

a)  $\frac{5}{8}$

b)  $\frac{10}{16}$

c)  $\frac{10}{32}$

VI.-Escribe como ecuaciones las siguientes expresiones verbales

1.- Si mi edad aumentada en 15 obtengo 36 :

2.- Si a la edad de Vanesa le disminuido 20 años obtengo 15



**V.- Observa y resuelve:**



**S/90**



**S/40**



**S/20**



**S/100**

**1.-** Compré un pantalón y una camisa.¿ Cuánto debo pagar?

a) 130

b) 150

a) 250

**2.-**¿Cuál es la diferencia entre el pantalón y las medias.?

a) 110

b) 50

a) 70

**3.-**Si quiero comprar una casaca , pero tengo S/ 75.  
¿ Cuánto dinero me falta.?

a) 175

b) 25

a) 125

**VI.-RESUELVE:**

El doble de un número aumentado en su triple  
es igual a 25. ¿Cuál es el número? :

$$+ =$$