

Tema 1

## 2. Los números naturales: Unidades, decenas y centenas: descomposición.

Te lo cuento:



Centena

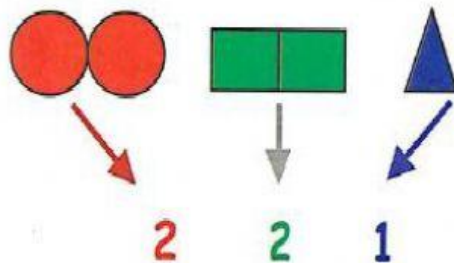


Decena




Unidad

Míralo:




Ahora tú:

1. Escribe estos números:




\_\_\_\_\_



\_\_\_\_\_



\_\_\_\_\_



\_\_\_\_\_

Descompón los siguientes números:

Te lo cuento:

• 234 = 2 centenas 3 decenas 4 unidades.

Míralo y prueba:

130 = \_\_\_ centenas + \_\_\_ decenas + \_\_\_ unidades

576 = \_\_\_ C + \_\_\_ D + \_\_\_ U

809 = \_\_\_ C + \_\_\_ D + \_\_\_ U

987 = \_\_\_ C + \_\_\_ D + \_\_\_ U

303 = \_\_\_ C + \_\_\_ D + \_\_\_ U

580 = \_\_\_ C + \_\_\_ D + \_\_\_ U

112 = \_\_\_ C + \_\_\_ D + \_\_\_ U

324 = \_\_\_ C + \_\_\_ D + \_\_\_ U

Ahora tú:

849 = \_\_\_\_\_

947 = \_\_\_\_\_

105 = \_\_\_\_\_

749 = \_\_\_\_\_