 <p>PRESTON SCHOOL <i>Always the truth</i></p>	<p>IEA CIENCIAS SOCIALES</p> <p><i>Pueblos originarios</i></p>	<p>Date:</p> <p>27 /08/2021</p>	<p>Time:</p>
<p>Junior Department</p>	<p>NAME :</p>	<p>Grade</p>	<p>2nd grade</p>
<p>Miss Julianna Mardones</p> <p>Miss Analia Koëmffer</p>		<p>Ideal Score:</p> <p>(60%)</p>	<p>16 points</p>
		<p>Score gotten</p>	


OA	Indicador de evaluación	Nivel cognitivo y habilidad	Ítem y pregunta	Puntaje	Puntaje obtenido
Ubicar en mapas las zonas habitadas por algunos pueblos originarios de Chile, distinguiendo zonas norte, centro y sur.	Asocian los pueblos originarios con su respectiva ubicación en la zona norte, centro o sur de Chile.	Conocer	Pregunta 4	8 pts.	
Describir los modos de vida de algunos pueblos originarios de Chile, incluyendo ubicación geográfica, medio natural en que habitaban, vida nómada o sedentaria, roles de hombres y mujeres, herramientas y tecnología, principales actividades, vivienda, costumbres, idioma, creencias, alimentación y fiestas, entre otros.	Asocian los pueblos originarios con su respectiva ubicación en la zona norte, centro o sur de Chile.	Identificar	Pregunta 1	4 pts.	
	Caracterizan el modo de vida de los pueblos estudiados, distinguiendo entre nómades y sedentarios.	Aplicar	Pregunta 2	6 pts.	
	Identifican los principales actividades de los pueblos estudiados, y los relacionan con las características del medio geográfico	Conocer	Pregunta 3	7 pts.	

I. **Marca la alternativa correcta.**

¿En qué entorno geográfico se desarrolló este pueblo originario de Chile? (1punto)


- a) En la Zona Sur.
- b) En la Zona Norte.
- c) En la Zona Central.

1



2. Según lo que observas en las imágenes y lo aprendido en clases, ¿Qué forma de vida tuvieron estos pueblos originarios? (1pto c/u, 6 en total))

Chango


☐

Nómade

☐

Sedentario

Diaguita


☐

Nómade

☐

Sedentario

Mapuche

☐

Nómade

☐

Sedentario

Selk'nam


☐

Nómade


☐

Sedentario

Aymara



Kawésqar



☐

Nómade

☐

Nómade

☐

Sedentario

☐

Sedentario

3.- ¿Cuál de los siguientes grupos de pueblos originarios eran agricultores?
(1 punto)

☐

Changos – selk'nam – Kawesqar

☐

Diaguitas – Mapuches - Atacameños

4.- Une cada pueblo con la zona de Chile donde vivieron. (1pto c/u, 8 en total)

selk'nam

Pehuenche

Atacameño

Aónikenk



Diaguita

Mapuche

Kawésqar

Huilliche