

Regiones continentales



Comencemos

Lee el texto y responde.

¿Desde cuándo el hombre habita los distintos continentes?

Toumai, *Sahelanthropus Tchadensis*, es el nombre de un homínido (antecesor que caminó erguido en dos extremidades) descubierto en Chad, en el continente africano, con antigüedad de siete millones de años. En Georgia, Asia, se halló un cráneo de 1.8 millones de años. El fósil más antiguo conocido en Europa occidental, localizado al norte de España, es de 1.2 millones de años atrás. El *Homo Sapiens* apareció en África hace unos 200 mil años. En Oceanía, el hombre más antiguo es el Hombre de Mungo de unos 45 mil años, hallado en Australia.

Fuente: Adaptado de bit.ly/2Y92emZ (consulta: 20/06/19)

- ¿En qué continentes se han hallado evidencias de los antecesores del ser humano? _____

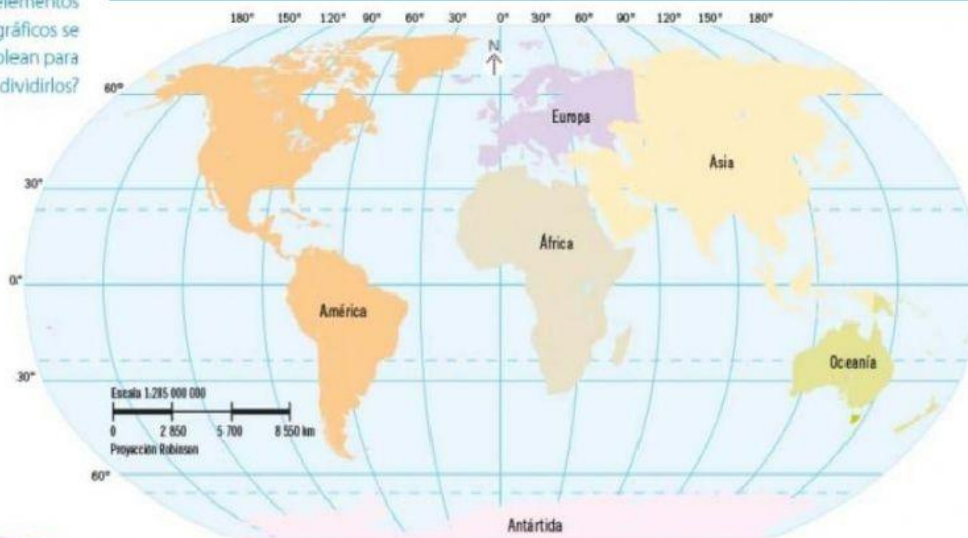
- ¿Qué continentes no se mencionan en el texto? _____

¿Cuáles son las divisiones continentales de la Tierra? ¿Qué elementos geográficos se emplean para dividirlos?

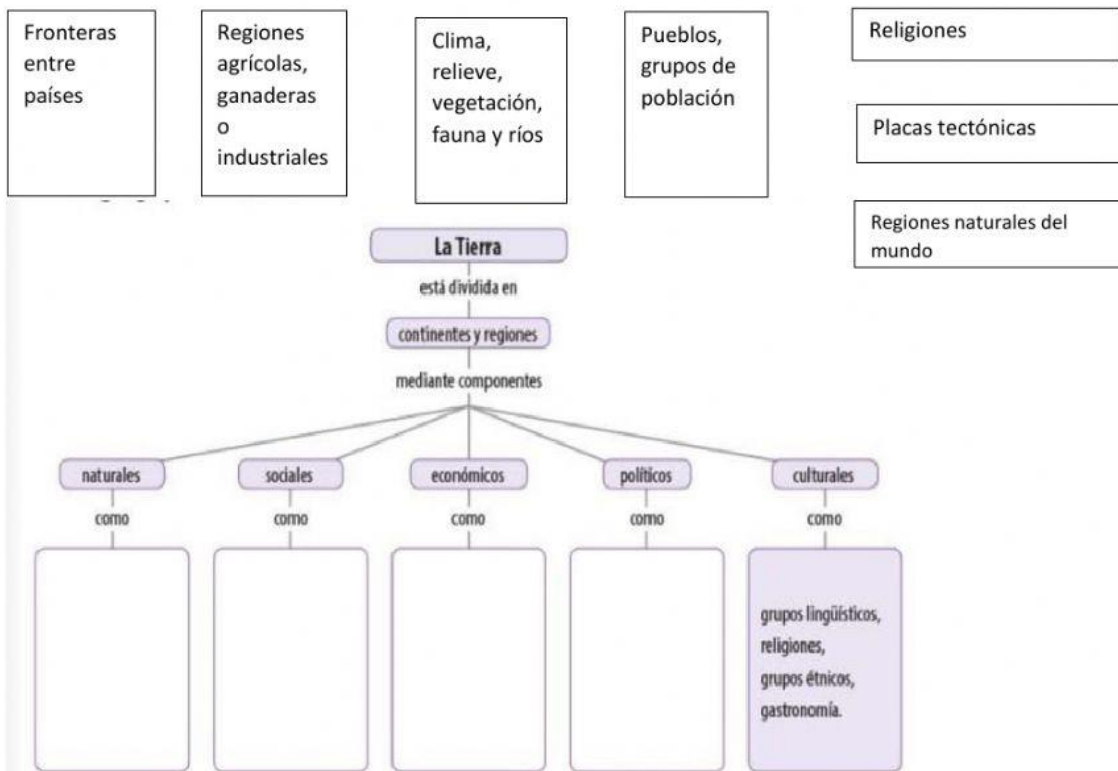


Aprendamos más

REGIONES CONTINENTALES

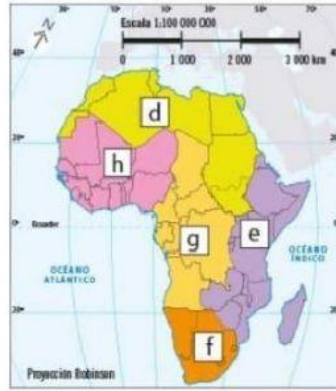


Indicación: Arrastra el recuadro correspondiente, para completar el siguiente mapa conceptual y cuadro de doble entrada.



Páginas	Título del mapa	Explicación de la división continental y regional
27		Ubicación y límite de las diferentes placas tectónicas en el mundo
61		La ubicación y delimitación de las regiones naturales de los continentes del planeta.
88		Zonas en el mundo de mayor influencia para cada religión
104	Bloques económicos	Grupos de países que pertenecen a una misma región con acuerdos en común, para facilitar el comercio y obtener beneficios económicos.

4. Observa los mapas y anota la letra correspondiente.



- África del Sur
- América Central y las Antillas
- África del Norte
- África Central
- América del Sur
- África Occidental
- África Oriental
- América del Norte

- Discute qué componentes del espacio geográfico se consideraron en la división en ambos continentes.



Apliquemos lo aprendido

¿Cuáles son algunas de las regiones económicas y políticas en que se divide a los continentes?

5. Completa el texto con los continentes y regiones que se indican en el recuadro.

- Asociación de Naciones del Sudeste Asiático
- América
- Oceanía
- Mercosur
- Unión Europea
- Tratado de Libre Comercio de América del Norte

Juan vive en Paraguay, país que se localiza en _____. Como parte de una tarea contactó a María, una amiga que vivía en México, pero por cuestiones de trabajo de sus padres, tuvieron que migrar a Nueva Zelanda, país ubicado en _____. Juan le escribió a María que le dejaron investigar sobre las regiones económicas del mundo. En clase, el profesor les explicó que los países conforman regiones económicas como en Europa, donde la mayoría pertenecen a la _____; las naciones del sureste de Asia conforman la _____; en América del Sur algunos países pertenecen al _____, en el que participa Paraguay; antes los países de América del Norte integraban el _____, pero en la actualidad se está conformando el Tratado México – Estados Unidos – Canadá (T-MEC).

Compruebo lo que aprendí

Discute: ¿qué componentes del espacio geográfico se emplean para la división de la Tierra en continentes?, ¿qué tipos de divisiones es posible establecer además de los continentes?, ¿estas divisiones en qué componentes del espacio geográfico se basan?