



Unidad Educativa Particular "La Consolata"
Periodo Lectivo 2020 - 2021

Lección Sumativa1 del Segundo Parcial correspondiente al
Primer Quimestre

Asignatura: Matemáticas

APELLIDOS Y NOMBRES: _____

Grado: _____

2º E.G. B

calificación

Fecha: _____


Paralelo: _____

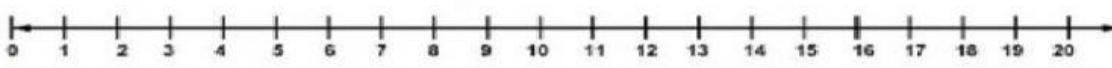
NOTA:


- ✓ Utilice material de apoyo como cuaderno y texto.
- ✓ Utilice lápices de colores en las preguntas que corresponda.
- ✓ Contestar de acuerdo a lo aprendido.
- ✓ En caso de tener dudas comunicarse con su tutor por interno.

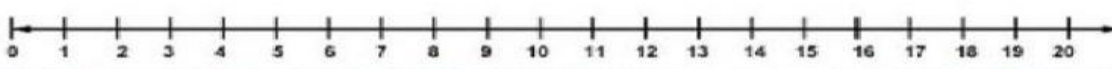
Indicador: Reconocer la adición y sustracción.

1.- Realizar la siguiente sustracción y la adición en la semirrecta numérica (2P 1c/u)

 $12 - 5 = \boxed{}$



 $14 + 1 = \boxed{}$



Indicador: Identifica la unidad y decena.


2.- Contesto verdadero V o falso F, coloreo la casilla de mi respuesta (2P 0.5c/u)

	V	F
Si a 9 unidades se le adiciona 1 unidad se forma una decena.		
La decena está formada por 10 unidades.		
Si a 5 unidades le adiciono 4 unidades se forma una decena.		
Si tengo 30 chupetes tengo 3 decenas		

Indicador: Observa y reconocer los elementos de cada conjunto.

3.- Une con líneas de acuerdo a su relación de correspondencia.

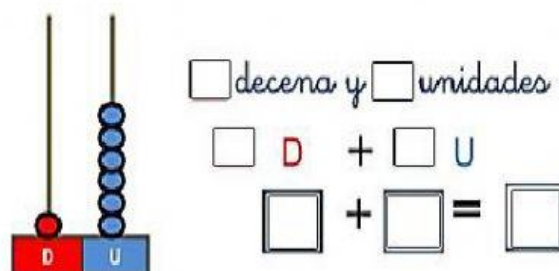
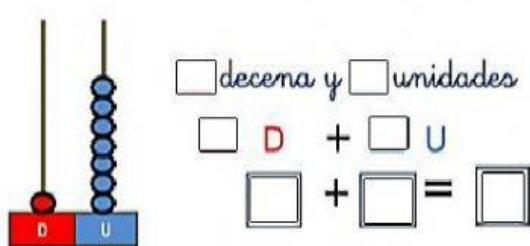
(3 P 1c/u)



Indicador: Organiza y representa la unidades y las decenas.

4.- Observa y completa.

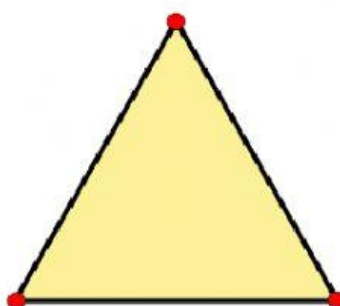
(2 P 1c/u)



Indicador: Reconoce y selecciona la respuesta correcta las vértices, lados y ángulos de las figuras geométrica.

5.- ¿Cuántos lados, vértices y ángulos tiene esta figura geométrica?

(1Punto)



- A. 2 lados, 3 vértices y 1 ángulo
- B. 1 lados, 2 vértices y 3 ángulos
- C. 4 lados, 3 vértices y 1 ángulo
- D. 3 lados, 3 vértices y 3 ángulos

Elaborado por: Lic. Fátima Yagual	Revisado por: Lic. Julia Hernández Coordinación Académica
--------------------------------------	--