




## Tarea 5 “Localización y Tiempo”


Nivel de logro	Logrado	Por Lograr	Insuficiente
Rango de puntaje	10 – 8	7 – 5	4 – 0


1. Escribe las coordenadas de las piezas que faltan por armar.


a. 


b. 

c. 

d. 

e. 

f. 



2. Une la hora indicada en el reloj análogo con su lectura correspondiente.



10 : 20

13 : 35

11 : 50

22 : 35