



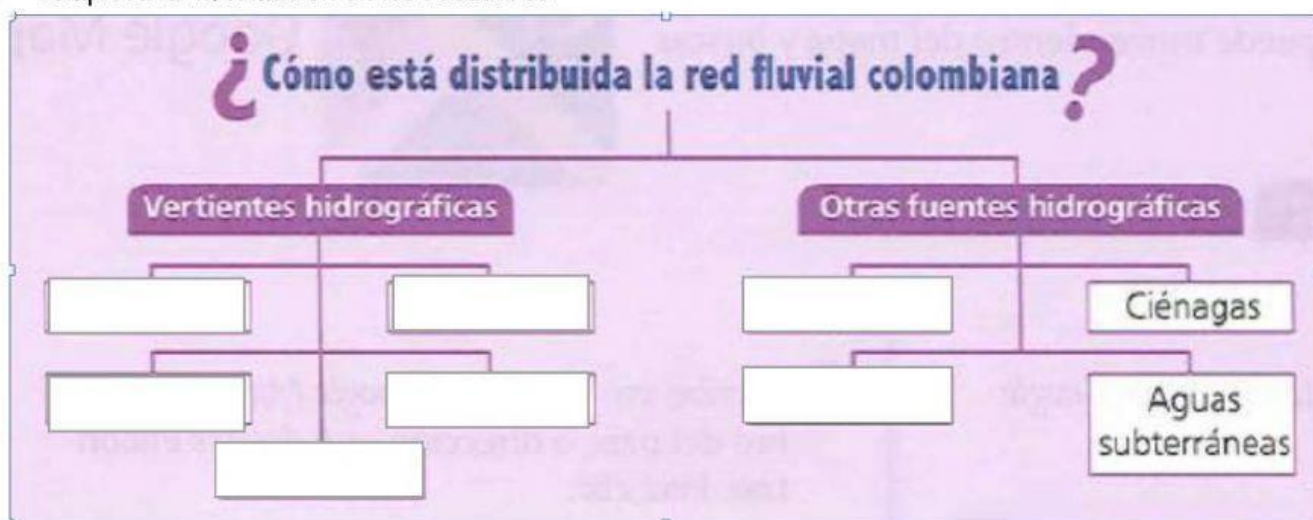
REAL COLEGIO SAN JOSÉ S.A.S. POPAYÁN

GULA N°06

TEMA: HIDROGRAFIA DE COLOMBIA

DOCENTE:	AREA:	GRADO:	FECHA:
Yamile Molano Solarte	Sociales	Quinto	Tercera Semana De Agosto

1. Completa la información en los recuadros



2. Arrastra cada nombre hasta la imagen correcta.




Laguna

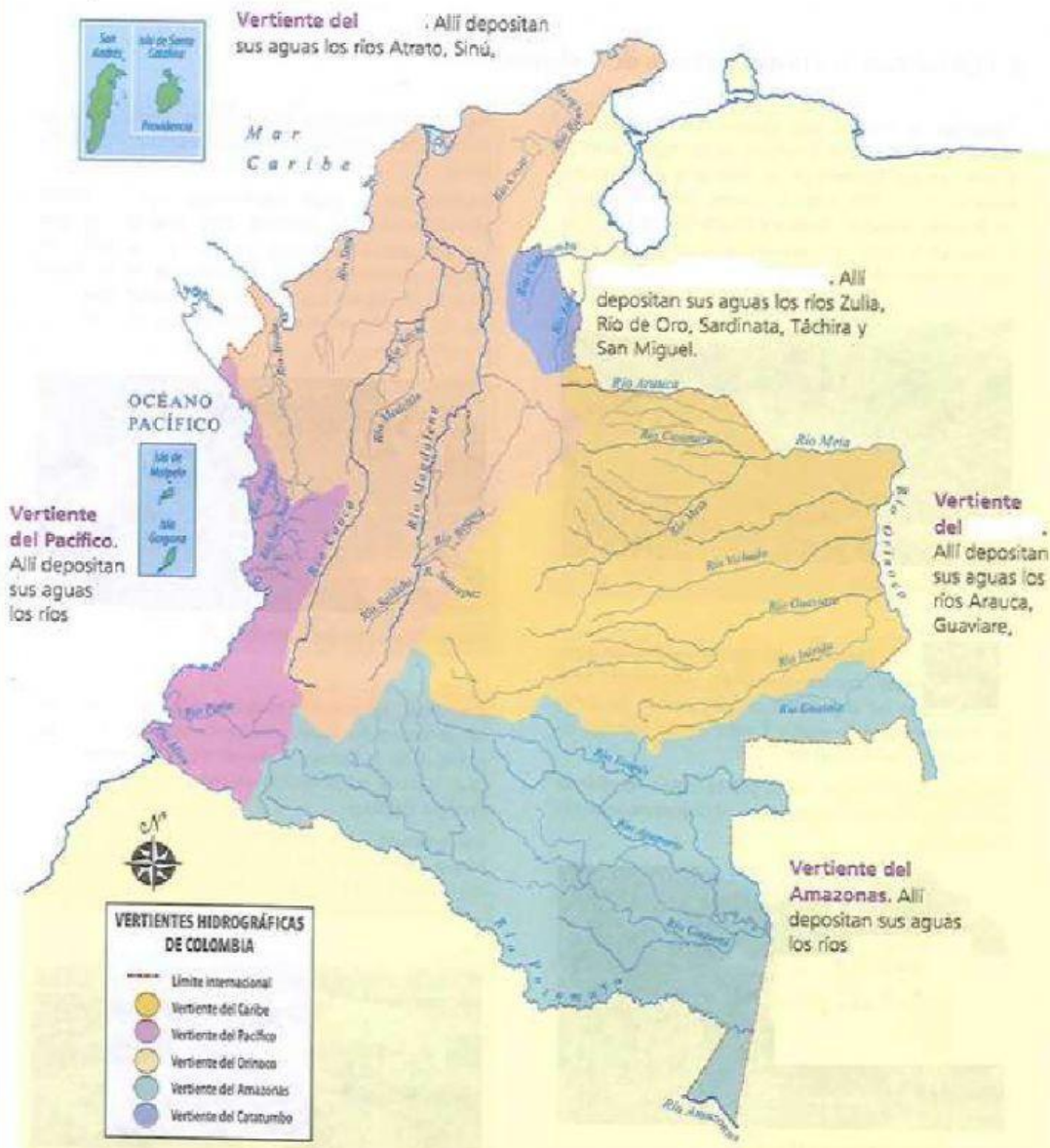
Ciénaga

Embalse

Aguas
subterráneas



3. Completa la información en los recuadros



4. Completa las siguientes afirmaciones.

- La vertiente del _____ es la más extensa e imponente de Colombia.
- La vertiente del _____ es la más grande del mundo y sirve de frontera con _____.
- La vertiente del _____, posee ríos largos y sirve de frontera con _____.
- La vertiente del _____, posee ríos cortos pero muy caudalosos
- La vertiente del _____ es la más pequeña del país, nace en la cordillera _____ y desemboca en _____.

5. Escribe el número que corresponde a cada río.

RÍOS

1. Magdalena
2. Cauca.
3. Caquetá.
4. Putumayo.
5. Amazonas
6. Orinoco.
7. Meta

