


1. Wie viel Uhr ist es? Ergänze beide Uhrzeiten.


Beispiel:




_____ Uhr
_____ Uhr



_____ Uhr
_____ Uhr



_____ Uhr
_____ Uhr



_____ Uhr
_____ Uhr




_____ Uhr
_____ Uhr



_____ Uhr
_____ Uhr

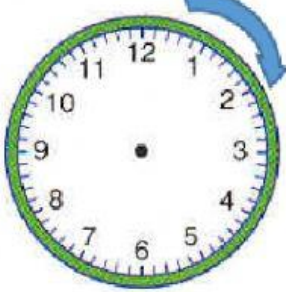
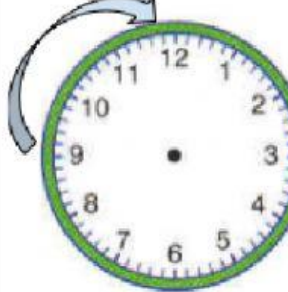




_____ Uhr
_____ Uhr



_____ Uhr
_____ Uhr

2. Ergänze: halb – vor – nach - Viertel

3. Kreuze an:



1.

- a. Es ist vier Uhr.
- b. Es ist fünf Uhr.
- c. Es ist halb fünf.



2.

- a. Es ist fünf nach sechs.
- b. Es ist zehn nach sechs.
- c. Es ist fünf vor sechs.



3.

- a. Es ist Viertel vor sieben.
- b. Es ist Viertel nach acht.
- c. Es ist Viertel nach sieben.



4.

- a. Es ist Viertel vor neun.
- b. Es ist Viertel nach neun.
- c. Es ist Viertel vor zehn.