



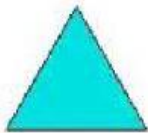
GEOMETRÍA 1

NOMBRE: _____


1. RESPONDE SI ES FALSO O VERDADERO

- ✚ Un polígono es una figura con volumen _____
- ✚ Los polígonos se encuentran limitados por segmentos _____
- ✚ Podemos dar nombre a los polígonos por su tamaño _____
- ✚ Podemos dar nombre a los polígonos por la cantidad de sus lados que los conforman _____

2. Une cada polígono con su nombre



Hexágono



Pentágono




Cuadrilátero




Triángulo

3. Une cada pac man con el nombre del ángulo que está haciendo con su boca

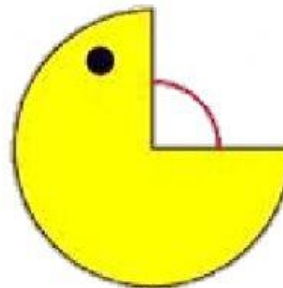
Ángulo agudo



Ángulo recto



Angulo obtuso



Good Luck !