

EVALUACIÓN DIAGNÓSTICA DE ESTUDIOS SOCIALES
QUINTOS AÑOS DE BÁSICA

AÑO LECTIVO 2021-2022

1. Escriba las capitales de las siguientes provincias del Ecuador:

- a) Pichincha
- b) Guayas
- c) Chimborazo
- d) Pastaza
- e) Napo

ECUADOR



- a) Costa Tiene nevados y volcanes, su clima es frío
- b) Sierra Conocido como las Islas Encantadas
- c) Oriente Clima cálido, bañada por el Océano Pacífico
- d) Región Insular o Galápagos Abundante vegetación, clima cálido-húmedo

3. Selecciona las respuestas correctas sobre los Límites del Ecuador




NORTE	SUR	ESTE	OESTE
Colombia	Colombia	Colombia	Colombia
Perú	Perú	Perú	Perú
Océano Pacífico	Océano Pacífico	Océano Pacífico	Océano Pacífico

4. Escribe el nombre de las siguientes Representaciones Culturales del Ecuador



5. Ubica y escribe el nombre del Ecuador en el mapa de América



Msc. María del Carmen Barahona	Lic. Evelyn Quintana G.	Lic. Verónica Guanotasig
		



Ministerio
de Educación

UNIDAD EDUCATIVA FISCAL

“DR. MIGUEL ÁNGEL ZAMBRANO”

17H00976@gmail.com - PUENGASÍ - FONO 2602-439 / 2602 -844

