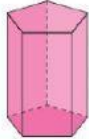



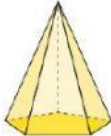

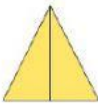
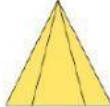





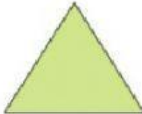
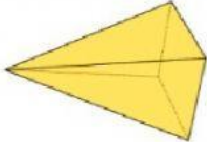



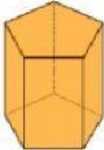

**1. Elige la vista correspondiente en cada caso.**

Desde arriba 			
Desde el frente 			
Desde el lado 			

**2. Observa el cuerpo geométrico e indica si la vista representada es desde arriba, desde el frente o desde el lado.**

a.   La vista representada es: \_\_\_\_\_

b.   La vista representada es: \_\_\_\_\_

c.   La vista representada es: \_\_\_\_\_

**3. Elige la vista que corresponde:**

- a. Alberto y sus padres viajaron a Egipto a ver las pirámides. ¿Cuál de las siguientes figuras corresponde a la vista de frente de una de ellas?

