


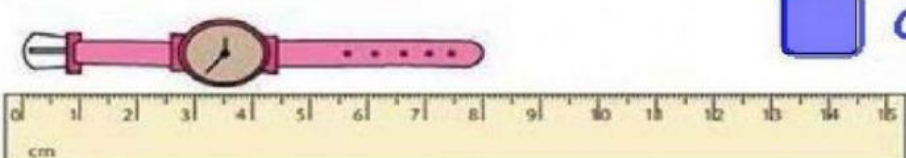



COLEGIO AGUSTINIANO
EVALUACIÓN DE GEOMETRÍA---- TERCERO


NOMBRE: _____

1. Escribe cuanto miden los objetos:

1)  CM




2)  CM

3)  CM

4)  CM

2. Marca una X los objetos que se vendan por metros:

SEÑALA CUÁLES DE ESTAS COSAS SE VENDEN POR METRO



3. Escribe el nombre de cada unidad:

Escribe el nombre de cada unidad.

Km	<input type="text"/>	M	dm	<input type="text"/>
Hm	<input type="text"/>		cm	<input type="text"/>
Dm	<input type="text"/>	<input type="text"/>	mm	<input type="text"/>

4. Convierte las unidades indicadas:

6 km = hm

50 cm = dm

400 dam = m

3000 mm = cm

5.

-Escribe qué unidad de medida usarías:







km
cm
m







