


## UNIT II: Buruj


• Tema: Bumi dan Sains Angkasa

### PBD APAKAH BURUJ?; BURUJ DI LANGIT MALAM

Rajah di bawah menunjukkan dua jenis buruj, P dan Q, yang kelihatan pada waktu malam.



P



Q

(a) Apakah maksud buruj? SP11.1.1

TP1 Buruj ialah \_\_\_\_\_ yang kelihatan membentuk corak tertentu di langit pada waktu \_\_\_\_\_.

(b) Padankan nama buruj P dan buruj Q dengan betul. SP11.1.2

TP2

i. Buruj P •

ii. Buruj Q •

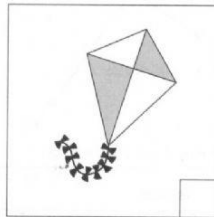
• Buruj Biduk

• Buruj Pari

• Buruj Belantik

(c) Rajah di bawah menunjukkan tiga objek. Tandakan (✓) pada objek yang menyerupai corak buruj Q. SP11.1.2

TP2




### PBD BURUJ DI LANGIT MALAM


Rajah di bawah menunjukkan tiga jenis buruj. SP11.1.2



Q



R



S

(a) Buruj yang manakah digunakan untuk menentukan arah utara?

TP2

(b) Apakah corak yang membentuk...

TP2

i. buruj Q?

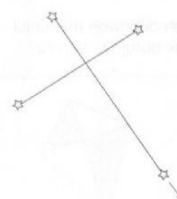
ii. buruj R?

(c) Rajah di bawah menunjukkan buruj Q dan buruj S. Pada rajah di bawah, lukis anak panah yang menunjukkan arah dan namakan arah yang ditunjukkan oleh buruj tersebut.

TP2



Q



S

Arah:

Arah: