



# Ficha interactiva:

## Jugamos con los números hasta 49







**GRADO:** 1er grado de primaria

**ÁREA:** Matemática

➤ Une con una línea

- |      |                          |
|------|--------------------------|
| • 26 | • 4 decenas y 9 unidades |
| • 49 | • 4 decenas y 4 unidades |
| • 32 | • 2 decenas y 6 unidades |
| • 20 | • 2 decenas y 0 unidades |
| • 39 | • 3 decenas y 2 unidades |
| • 44 | • 3 decenas y 9 unidades |

➤ Observa y completa en el tablero los números que representa cada gráfico.

|   | <br>D | <br>U |
|---|--|--|
|  |  |  |
|  |  |  |
|  |  |  |
|  |  |  |