

Nome: \_\_\_\_\_

Data: \_\_\_\_\_

**AVALIAÇÃO CONTINUADA DE MATEMÁTICA**


1) COMPLETE PARA CALCULAR O TOTAL

A. QUANTOS LÁPIS TEM NO TOTAL?

ADIÇÃO:  +  +  =

MULTIPLICAÇÃO:  x  =

TOTAL DE LÁPIS:

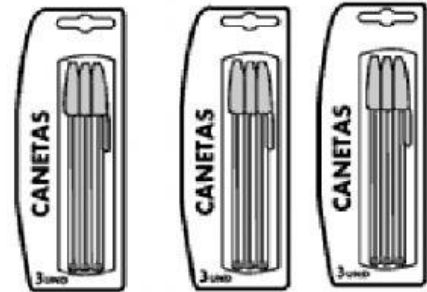


B. QUANTAS CANETAS TEM NO TOTAL?

ADIÇÃO:  +  +  =

MULTIPLICAÇÃO:  x  =

TOTAL DE LÁPIS:



2) LIGUE CADA MULTIPLICAÇÃO COM A FIGURA CORRESPONDENTE


**4 x 3** •



**2 x 2** •



**6 x 2** •



# PROBLEMATIZANDO


- ☞ Raquel colocou 3 bombons em cada pacote.  
Quantos bombons há em 7 pacotes?



Operação

Resposta: \_\_\_\_\_


- ☞ Um cão tem 4 patas.  
Quantas patas tem 8 cães?



Operação

Resposta: \_\_\_\_\_

- ☞ Papai lê 2 folhas de um livro por hora.  
Quantas folhas do livro papai lerá em 5 horas?



Operação

Resposta: \_\_\_\_\_



# LIGANDO OS NÚMEROS

Ligue as multiplicações aos seus produtos.

$3 \times 7$

16

$2 \times 8$

12

$3 \times 3$

21

$1 \times 5$

6

$2 \times 6$

9

$3 \times 2$

5

