

LKPD



Kompetensi Dasar :

BAHASA INDONESIA

3.3 Menganalisis Informasi yang disampaikan paparan iklan dari media cetak atau elektronik.

4.3 Memeragakan Kembali informasi yang disampaikan paparan iklan dari media cetak atau elektronik dengan bantuan lisan, tulis dan visual.

IPA

3.3 Menjelaskan organ pencernaan dan fungsinya pada hewan dan manusia serta cara memelihara Kesehatan organ pencernaan pada manusia

4.3 menyajikan karya tentang konsep dan fungsi pencernaan pada hewan atau manusia

Indikator Pencapaian Kompetensi

- menemukan informasi dari teks iklan
- menyimpulkan kata kunci
- Menyajikan informasi dari teks iklan secara tulis
- Menelaah informasi tentang organ pencernaan dan fungsinya pada hewan
- Menyajikan model sederhana organ pencernaan hewan.



Bacalah dialiog berikut:

Dayu : “ Wah , sedapnya sarapanku hari ini.”

Edo : sarapan apa kamu pagi ini, Dayu ? kalau aku seperti biasa, nasi sayur dan telur mata sapi sudah cukup.”

Dayu : : “ Ibuku membuat bubur ayam istimewa, Edo.”



Siti : “ Aduh, semuanya terdengar enak untuku, sekalipun hanya nasi, sayur dan telur mata sapi. Apalagi kalua bubur ayam istimewa. Bersyukurlah kita dikaruniai sistem pencernaan, teman-teman. Dengan begitu makan yang kita makan dapat membawa manfaat untuk tubuh kita. “

Dayu : “ Betul juga ya. Apa sebenarnya manfaat sistem pencernaan itu, siti ?

Siti : “ sistem pencernaan merupakan organ yang dapat ditemui pada manusia dan hewan. Sitem pencernaan berfungsi untuk memperhalus makan sehingga menghasilkan nutrisi yang dapat diserap oleh tubuh. Dengan adanya nutrisi tersebut, maka manusia dan hewan, dapat tumbuh dan berkembang dengan baik, jika manusia atau hewan yang mengkonsumsinya akan tumbuh dengan sehat.”

Edo :”Aku pernah melihat iklan tentang bubur ayam dengan beras organik dalam iklan tersebut terdapat kalimat yang mengajak orang untuk memakan bubur organik itu.”

Dayu : “ wah, kedengarannya menarik, yak, Edo. Kapan-kapan kita makan bubur ayam di tempat ini , yuk. Pastikanya lebih sehat karena berasnya organik.

Setelah mencermati dialog diatas ,maka peta konsep untuk materi hari ini adalah



Bahasa Indonesia KD 3.3

Amatilah dan analisislah iklan-iklan dibawah ini.

IKLAN 1



IKLAN 2



IKLAN 3

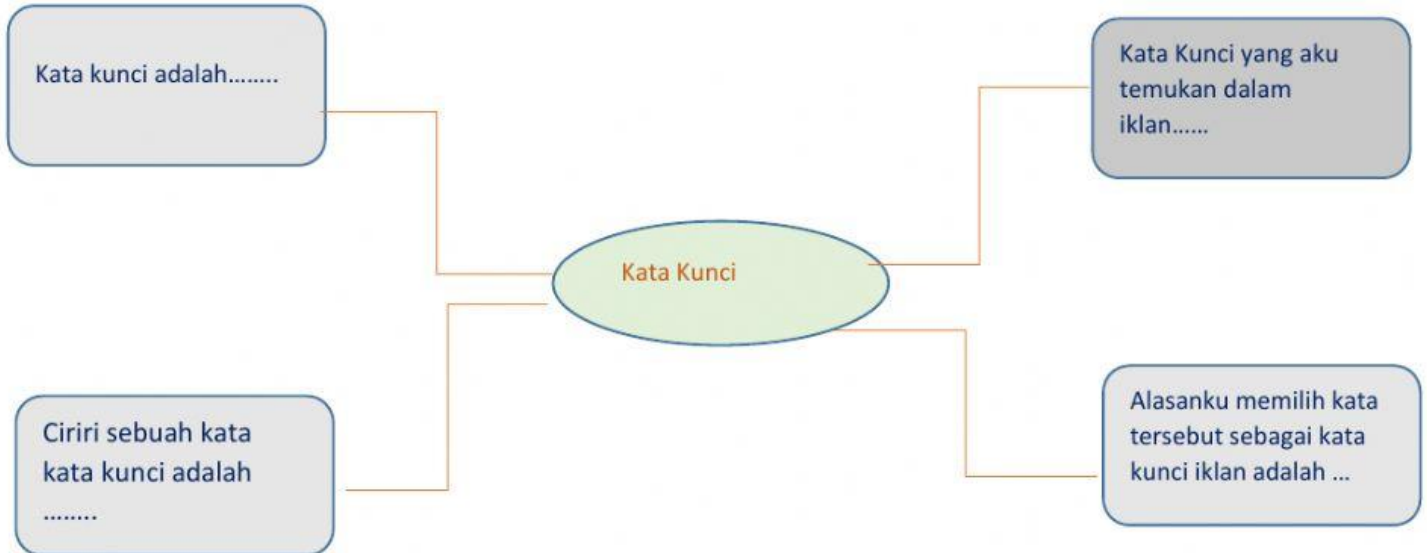


Berdasarkan gambar iklan yang disajikan. Apa saja yang kamu temukan :

No	Gambar	Tulisan yang Kulihat
1		
2		
3		

Bahasa Indonesia KD3.3 dan 4.3

Berdasarkan hasil pengamatanmu lengkapilah laporan peta pikiran berikut ini



Kesimpulan arti kata kunci menurut mu adalah

.....

.....

.....

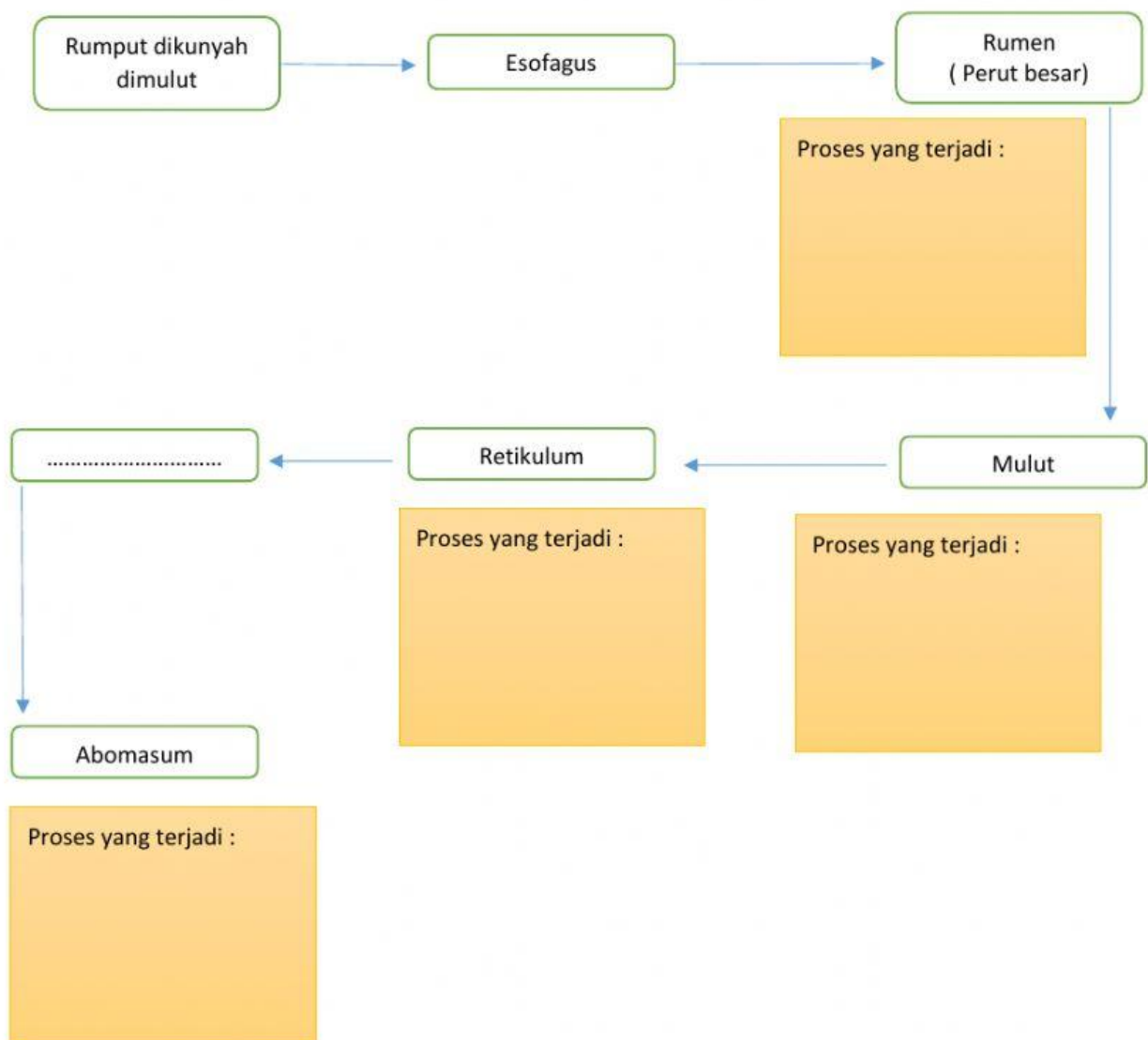
.....

.....

.....

IPA KD 3.3 dan 4.3

Diagram dibawah ini menjelaskan mengenai proses pencernaan pada hewan ruminansia (Sapi). Lengkapilah diagram berikut berdasarkan pengetahuan yang telah kamu peroleh.



Lengkapilah poster hewan (sapi)

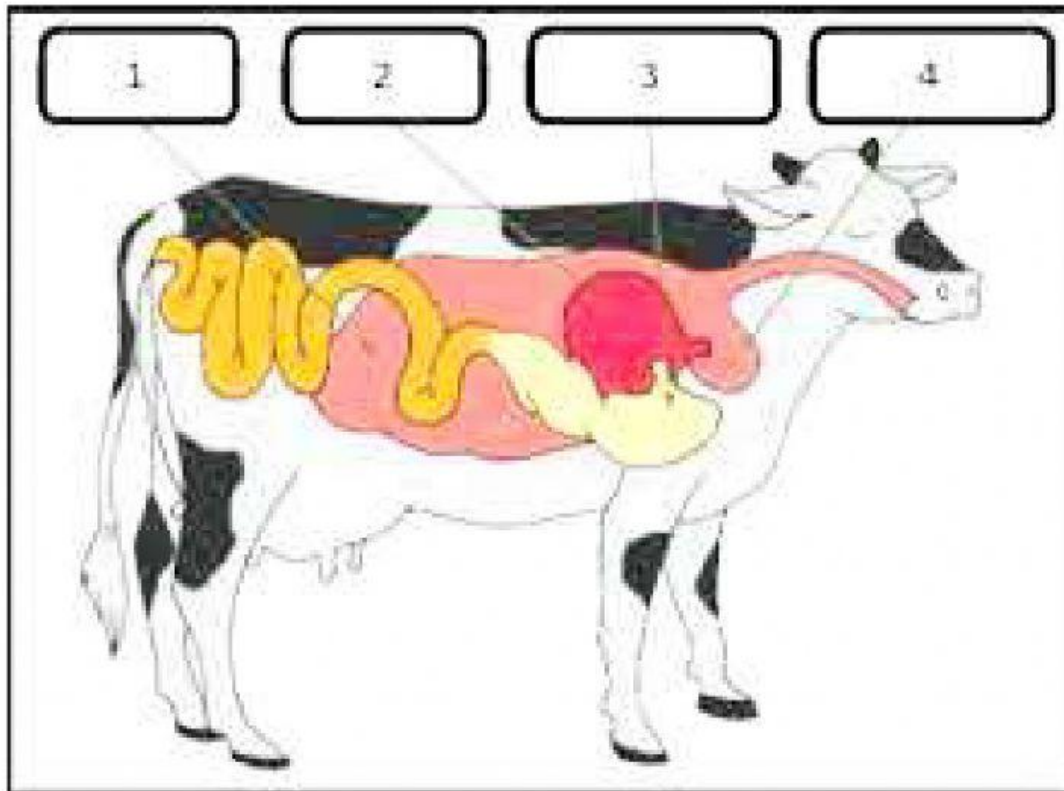
Langkah kegiatan:

1. Bentuklah kelompok yang terdiri dari 3-4 orang.
2. Bacalah teks informasi tentang sistem pencernaan hewan ruminansia (sapi).
3. Cermati lagi diagram pada proses pencernaan hewan ruminansia (sapi).
4. Memberi nama setiap bagian organ pencernaan pada hewan sapi sesuai dengan urutan nomornya.
5. Memberi tanda panah untuk menggambarkan perjalanan makanan yang dicerna oleh sistem pencernaan hewan.
6. Persentasikan hasil pengerjaan kelompokmu di depan kelas dengan suara yang jelas.

Kelompok :

Nama :

POSTER SISTEM PENCERNAAN HEWAN RUMINANSIA (SAPI)



1.....

2.....

3.....

4.....