





MIN 1 KOTA BANDUNG LEMBAR KERJA PESERTA DIDIK (LKPD)


Mata Pelajaran : Ilmu Pengetahuan Sosial
Kelas/ Semester : 6 (Enam)/ Semester 1
Materi : Identifikasi Negara-negara
Asia Tenggara


Nama :
Kelas :
No. Absen :

Pilihlahn Identitas negara-negara Asia Tenggara berikut dengan tepat !

| | | | |
|----|---------------------|-------------|--|
| 1. | Negara | |  Bendera |
| | Ibu Kota | Nay Pyi Daw | |
| | Mata Uang | | |
| | Bentuk Pemerintahan | Republik | |
| | Gunung Tertinggi | | |
| | Sungai terpanjang | | |
| | Julukan | | |

| | | | |
|----|---------------------|------------|---|
| 2. | Negara | |  Bendera |
| | Ibu Kota | | |
| | Mata Uang | Peso | |
| | Bentuk Pemerintahan | | |
| | Gunung Tertinggi | Gunung Apo | |
| | Sungai terpanjang | | |
| | Julukan | | |

| | | | |
|----|---------------------|-----------------|--|
| 3. | Negara | |  Bendera |
| | Ibu Kota | | |
| | Mata Uang | | |
| | Bentuk Pemerintahan | | |
| | Gunung Tertinggi | Gunung Kinabalu | |
| | Sungai terpanjang | | |
| | Julukan | Negeri Jiran | |

| | | | |
|----|---------------------|--------------------|--|
| 4. | Negara | |  Bendera |
| | Ibu Kota | | |
| | Mata Uang | Baht | |
| | Bentuk Pemerintahan | | |
| | Gunung Tertinggi | | |
| | Sungai terpanjang | Sungai Chao Phraya | |
| | Julukan | | |



Pasangkan nama negara berikut ini berdasarkan batas wilayahnya !

| Nama Negara | BATAS WILAYAH | | | |
|-------------|-----------------------------|------------------------------|--------------------------------------|--------------------------------|
| | UTARA | SELATAN | BARAT | TIMUR |
| | MALAYSIA, LAUT CINA SELATAN | SAMUDERA HINDIA, AUSTRALIA | SAMUDERA HINDIA, LAUT ANDAMAN | PAPUA NUGINI, SAMUDERA PASIFIK |
| | THAILAND | SINGAPURA | SELAT MALAKA | LAUT CINA SELATAN |
| | LAUT CINA SELATAN | INDONESIA | LAUT CINA SELATAN, BRUNEI DARUSSALAM | LAUT SULLU |
| | SELAT JOHOR | SELAT SINGAPURA | SELAT MALAKA | SELAT KARIMATA |
| | LAUT CINA SELATAN | MALAYSIA | MALAYSIA | MALAYSIA |
| | LAUT CINA SELATAN | LAUT SULLU DAN LAUT SULAWESI | LAUT CINA SELATAN | SAMUDERA PASIFIK |
| | MYANMAR | MALAYSIA | LAUT ANDAMAN | LAOS |
| | RRC | LAUT ANDAMAN | INDIA, BANGLADESH | THAILAND, LAOS |
| | RRC | KAMBOJA | THAILAND, MYANMAR | VIETNAM |
| | RRC | LAUT CINA SELATAN | KAMBOJA, LAOS | LAUT CINA SELATAN |
| | LAOS, THAILAND | LAUT CINA SELATAN | THAILAND | VIETNAM |
| | SELAT WETAR (INDONESIA) | LAUT TIMOR (INDONESIA) | NTT (INDONESIA) | AUSTRALIA |

Malaysia Barat

Timor Leste

Kamboja

Malaysia Timur

Indonesia

Vietnam

Singapura

Myanmar

Thailand

Brunei Darussalam

Laos

Filipina

Gunakan bantuan atlas untuk menentukan batas wilayahnya

Pilihlah jawaban yang paling tepat !

1. Negara Asia Tenggara berikut ini yang sistem pemerintahannya berbentuk kerajaan adalah
 - a. Thailand, Malaysia, Brunei Darussalam
 - b. Kamboja, Myanmar, Thailand
 - c. Brunei Darussalam, Vietnam, Laos
 - d. Malaysia, Filipina, Singapura
2. Satu pulau di Asia Tenggara yang ditempati oleh tiga negara adalah pulau
 - a. Sumatera
 - b. Mindanao
 - c. Kalimantan
 - d. Papua
3. Wilayah Malaysia terbagi menjadi dua bagian, yaitu wilayah barat di semenanjung Malaka dan wilayah
 - a. Selatan di semenanjung Indochina
 - b. Timur di Pulau Kalimantan bagian utara
 - c. Tenggara berbatasan dengan Singapura
 - d. Utara di sepanjang garis pegunungan Himalaya
4. Negara di Asia Tenggara yang tidak memiliki garis pantai adalah
 - a. Myanmar
 - b. Vietnam
 - c. Kamboja
 - d. Laos
5. Dikarenakan banyaknya pendapatan Brunei Darussalam dari sumber alam berupa minyak bumi dan gas alam, maka negara ini dijuluki sebagai negeri
 - a. Gajah Putih
 - b. Petro Dollar
 - c. Seribu Pagoda
 - d. yang Terkunci

Silahkan klik finish, lalu check my answers, kemudian screen shoot hasilnya..