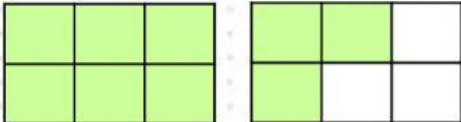


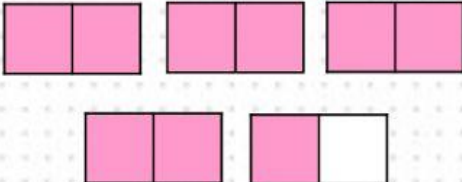
Colegio Nacional Americano
Matemática 3ro A / B
Prueba corta - Quincena XV

Nombre: _____

Instrucciones: une con línea el gráfico con la clase de fracción (propia, impropia, mixta)

$\frac{9}{6}$  Propia

$\frac{3}{5}$  Mixta


$4\frac{1}{2}$  impropia

Instrucciones: escribe en el cuadro si la fracción dada es heterogénea u homogénea.

La fracción $\frac{2}{6}$ $\frac{5}{6}$ es

La fracción $\frac{3}{7}$ $\frac{8}{10}$ es

Instrucciones: escucha el dictado que haré y escribe en números, luego selecciona que clase de fracción es.



propia

impropia

mixta