

Nombre: \_\_\_\_\_

Fecha: \_\_\_\_\_

# HAZ AHORA

Resuelve el siguiente problema

Maximiliano debe realizar 56 ejercicios de matemática.

Ya realizó 39 ejercicios.

¿Cuántos le falta por realizar?

|  |  |  |  |  |  |  |  |
|--|--|--|--|--|--|--|--|
|  |  |  |  |  |  |  |  |
|  |  |  |  |  |  |  |  |
|  |  |  |  |  |  |  |  |
|  |  |  |  |  |  |  |  |
|  |  |  |  |  |  |  |  |

Respuesta: \_\_\_\_\_


Resuelve las siguientes sumas

|       |                      |                      |
|-------|----------------------|----------------------|
|       | <input type="text"/> | <input type="text"/> |
|       | 5                    | 8                    |
| +     | 3                    | 6                    |
| <hr/> |                      |                      |
|       |                      |                      |


|       |                      |                      |
|-------|----------------------|----------------------|
|       | <input type="text"/> | <input type="text"/> |
|       | 3                    | 5                    |
| +     | 5                    | 7                    |
| <hr/> |                      |                      |
|       |                      |                      |

|       |                      |                      |
|-------|----------------------|----------------------|
|       | <input type="text"/> | <input type="text"/> |
|       | 4                    | 8                    |
| +     | 2                    | 3                    |
| <hr/> |                      |                      |
|       |                      |                      |


Resuelve las siguientes restas



|       |                      |                      |
|-------|----------------------|----------------------|
|       | <input type="text"/> | <input type="text"/> |
|       | 7                    | 2                    |
| -     | 4                    | 6                    |
| <hr/> |                      |                      |
|       |                      |                      |



|       |                      |                      |
|-------|----------------------|----------------------|
|       | <input type="text"/> | <input type="text"/> |
|       | 4                    | 3                    |
| -     | 3                    | 5                    |
| <hr/> |                      |                      |
|       |                      |                      |




|       |                      |                      |
|-------|----------------------|----------------------|
|       | <input type="text"/> | <input type="text"/> |
|       | 5                    | 1                    |
| -     | 4                    | 8                    |
| <hr/> |                      |                      |
|       |                      |                      |

Pasa las siguiente suma y la resta horizontal a una operación de forma vertical

19 + 36

|       |                      |   |
|-------|----------------------|---|
|       | D                    | U |
|       | <input type="text"/> |   |
|       |                      |   |
| +     |                      |   |
| <hr/> |                      |   |
|       |                      |   |

31 - 7 

|       |                      |                      |
|-------|----------------------|----------------------|
|       | D                    | U                    |
|       | <input type="text"/> | <input type="text"/> |
|       |                      |                      |
| -     |                      |                      |
| <hr/> |                      |                      |
|       |                      |                      |