

LEMBAR KERJA SISWA

Nama Siswa :

Nama Sekolah :

Materi Pelajaran

1. (IPS KD 3.4 dan 4.4). Menemukan makna proklamasi dalam kehidupan sehari-hari di sekolah, di rumah, dan di sekitar.
2. (SBdP KD 3.4 dan 4.4). Menggambar pola lantai tari daerah dan mempraktikkannya
3. (Matematika KD 3.3 dan 4.3). Menyelesaikan soal cerita hitung campur dan pecahan


Perhatikan Vedio Berikut !



Bacalah teks berikut dalam hati!

Edo, Lani, Siti, Udin, Dayu, dan Beni berencana mengikuti festival budaya. Saat ini mereka sedang berdiskusi untuk menentukan budaya yang akan mereka usung. Edo dan teman-temannya sangat antusias mengikuti festival ini. Mereka ingin memperkenalkan seni dan budaya suku-suku yang ada di Indonesia. Menentukan kebudayaan mana yang akan dipilih tidak mudah. Semua budaya yang dimiliki Indonesia sangat beragam dan menarik.

Akhirnya Edo dan teman temannya memutuskan untuk memperkenalkan permainan Rangu Alu. Permainan Rangu Alu berasal dari Nusa Tenggara Timur. Dalam masyarakat Manggarai, Rangu Alu dilakukan untuk merayakan hasil panen perkebunan dan tani. Edo dan teman-temannya sangat bangga dengan kebudayaan Indonesia.



1. Pernyataan berikut sesuai dengan isi dari teks bacaan diatas



2. Berilah tanda centang pada pernyataan yang benar atau salah sesuai dengan bacaan di atas !

B

Permainan Ronggeng Alu berasal dari Nusa Tenggara Barat. Dalam masyarakat Manggarai, Ronggeng Alu dilakukan untuk merayakan menyambut Wisatawan.

S

B

Tarian Polong berasal dari Bondowoso. Dalam masyarakat Bondowoso, Tarian Polong Kopi untuk merayakan panen kopi masyarakat Bondowoso

S

Kamu sudah belajar tentang pola lantai tarian daerah dan mempraktikkannya. Amatilah gambar berikut dan gambarkan pola lantainya! Pasangkan gambar dan nama tarian dengan Tarik garis !



Tari Tandak, Riau



Tari Polong Kopi Dari Bondowoso



Tari Seudati, Aceh



Tari Andun, Bengkulu



Tari Tambun dan Bungai,
Kalimantan Tengah

Klik benar atau salah sesuai dengan pernyataan yang didengar sesuai dengan gambar !



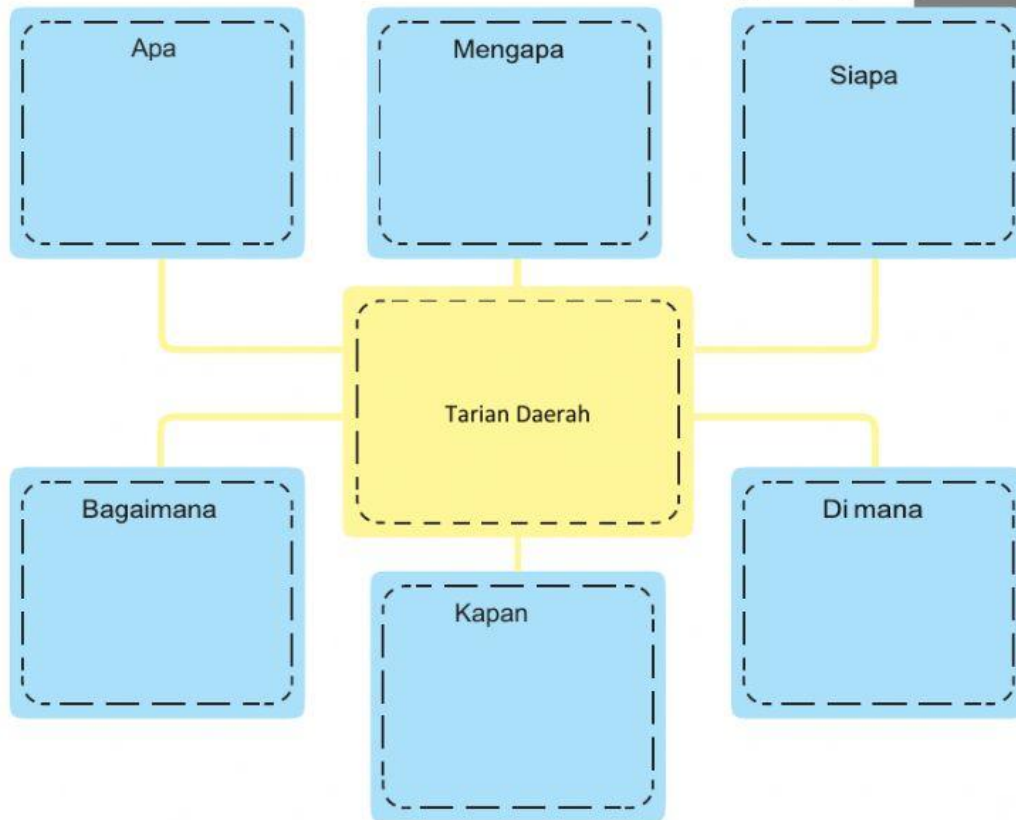
Benar / salah



Benar / salah



Benar / salah



Pasangkan kotak jawaban di bawah ini dengan dengan kotak kata tanya di atas !


Tanggal 9 Agustus 1945	Ir. Soekarno, Moh. Hatta dan Dr. Radjiman	Karena saat itu tentara Jepang sedang terdesak
Panglima tersebut menyampaikan informasi kepada pemerintah Indonesia bahwa Jepang akan memberikan kemerdekaan kepada bangsa Indonesia.	Untuk menarik simpati rakyat Indonesia, Jepang memutuskan untuk menghadiahkan kemerdekaan	Dalat, Saigon

Sebutkan nama tokoh proklamasi dengan memilih kotak disamping foto !


3. Siapa nama Tokoh Prklamasi pada foto ini....



2. Siapa nama Tokoh Proklamasi pada foto ini....



3. Siapa nama Tokoh Proklamasi pada foto ini....



4. Siapa nama Tokoh Proklamasi pada foto ini...



5. Siapa nama Tokoh Proklamasi pada foto ini...



6. Siapa nama Tokoh Proklamasi pada foto ini...



7. Siapa nama Tokoh Proklamasi pada foto ini...



Amati gambar berikut!





Cocokkan pernyataan dengan jawaban di bawah ini dengan menarik garis sesuai dengan gambar di atas!

Seandainya kamu sedang bermain bersama mereka, apa yang harus kamu perhatikan terkait kerukunan dan persatuan?

Bisa hidup damai, saling menghargai dan saling bekerja sama

Apakah kamu telah menerapkan nilai-nilai kerukunan terkait persatuan dan kesatuan dalam kehidupanmu sehari-hari? Jelaskan dan beri 3 contoh kegiatan dan perbedaan yang ada!

Saling bekerja sama memegang apa menjadi tugasnya tidak boleh merebut punya orang lain.

Apa manfaat yang kamu peroleh dari nilai-nilai tersebut? Tulislah 3 manfaat yang kamu rasakan!

Ya, ada 4 orang memegang tongkat, 1 orang memberikan aba-aba dan 1 orang melakukan aktraksi