

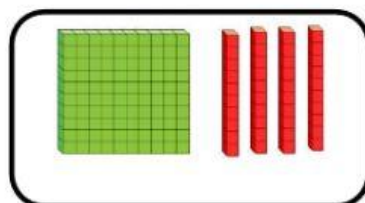

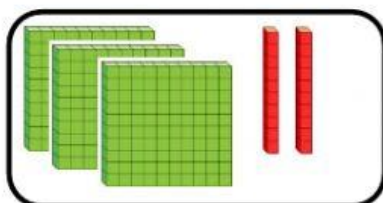
NUMERACIÓN

¿Cuántas decenas hay? Arrastra

14

32

43



Completa estas series:

200 - 205 - 210 -

400 - 410 - 420 -

600 - 602 - 604 -

100 - 90 - 80 -

Ordena estas cantidades de menor a mayor:

345

145

603

24

74

249

Ordena estas cantidades de mayor a menor:

634

256

192

56

896

34

Dictado de números. Escribe el número que oigas