



INSTRUMENTO DE EVALUACIÓN DIAGNÓSTICA

Año Lectivo: 2021-2022

ASIGNATURA: CIENCIAS NATURALES	PROFESOR/A: Andrea Coca - Jorge Ortiz
NOMBRE:	FECHA:
GRADO: SÉPTIMO E.G.B	PARALELO: A / B

INDICACIONES GENERALES:

- a) Lea detenidamente la pregunta y conteste. En caso de duda solicite ayuda al maestro/a.
- b) Está prohibido hablar para preguntar o corregir. El examen es personal.
- c) El intento de copia o la copia está considerada como deshonestidad académica y sancionada con cero.
- f) Confirme que sus datos informativos estén completos y correctos.
- g) El puntaje total de la evaluación es de 10 puntos.

1.- Del siguiente grupo de gráficos escoge cual corresponde a los reptiles (2p)



2.- Escoge la respuesta correcta el Covid 19 a que sistema del cuerpo humano afecta de forma muy grave (2p)

a	SISTEMA	b	SISTEMA	c	SISTEMA	d	SISTEMA	e	SISTEMA
	CIRCULATORIO		DIGESTIVO		RESPIRATORIO		EXCRETOR		NERVIOSO

3.- Escoge la respuesta correcta. La respiración cutánea se realiza mediante (2p)



Lic. Andrea Coca

Prof. Jorge Ortiz



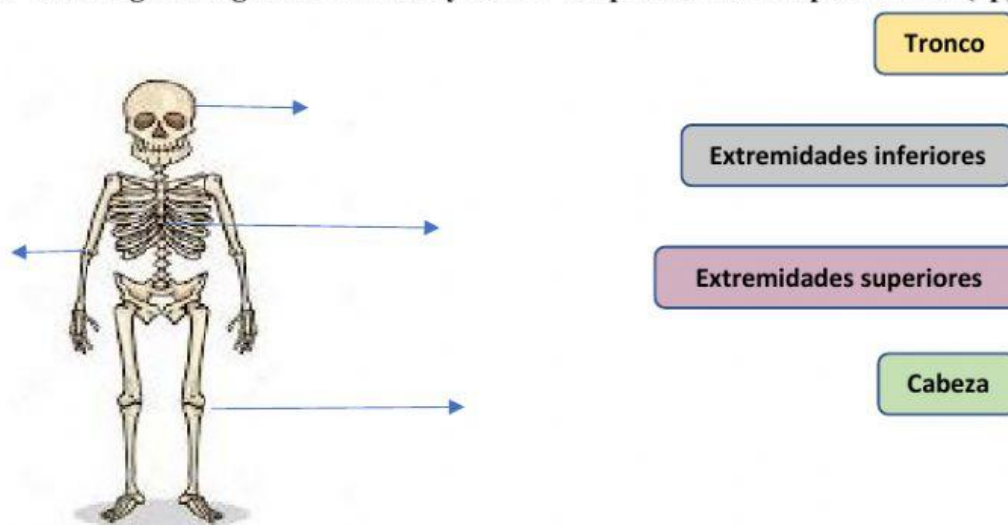


a PULMONES




b BRANQUIAS

c PIEL

4. En el siguiente gráfico arrastra y coloca las partes del cuerpo humano (2p)



5.- Escribe 4 especies que viven en un bosque (2p)

ELABORADO POR	REVISADO POR		APROBADO POR
Firma:  	Firma: 	Firma:	Firma:
Lic. Andrea Coca Lic. Jorge Ortiz DOCENTES:	Lic. Andrea Coca COMISIÓN TECNICOPEDAGÓGICA	Lic. Carlos Torres COORDINADOR DEL NIVEL	Mg. Iván Jordán SUBDIRECCIÓN



Lic. Andrea Coca

Prof. Jorge Ortiz





ESCUELA DE EDUCACIÓN BÁSICA "GENERAL CÓRDOVA"

CANTÓN : Ambato **PARROQUIA:** Pishilata. **BARRIO:** La Joya

TELEF. : 2405035



Lic. Andrea Coca

Prof. Jorge Ortiz

