


VERIFICA DI GEOGRAFIA

La Montagna



Metti una crocetta accanto alla risposta giusta:

1- La montagna è:

- ☐ Un rilievo naturale del terreno che non supera i 600 metri di altezza
- ☐ Un rilievo naturale del terreno che supera i 600 metri di altezza
- ☐ Un rilievo del terreno

2- Le montagne più giovani sono:

- ☐ Meno alte e hanno forme arrotondate
- ☐ Più alte con cime aguzze e pareti ripide
- ☐ Più alte e con cime tondeggianti

3- Le montagne più antiche sono:

- ☐ Meno alte e hanno forme arrotondate
- ☐ Più alte con cime aguzze e pareti ripide
- ☐ Più alte e con cime tondeggianti



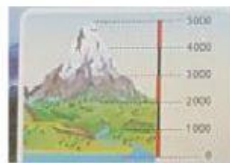
4- Come si sono formate le montagne?

- o Dall'innalzamento della crosta terrestre
- o Dal variare continuo del clima
- o Dal deposito continuo di detriti (pietre) sul fondo del mare



5- Le montagne si sono formate tutte nello stesso modo?

- o Sì, tutte le montagne si sono formate nello stesso modo
- o No, alcune montagne si sono formate per la caduta di un meteorite
- o No, alcune montagne si sono formate per l'accumulo di magma in superficie o sotto la crosta terrestre che si è sollevata



6- Che cosa è l'altitudine?

- o E' l'altezza di una montagna che si misura dalla base alla cima
- o È l'altezza di un luogo in base all'altezza dei suoi abitanti
- o È l'altezza di un luogo che si misura dal livello del mare

7- Cosa sono i ghiacciai?

- o Sono zone poco abitate e poco coltivate perché fa molto freddo
- o Sono distese di acqua
- o Sono accumuli di neve che si è trasformata in ghiaccio

8- Alcune montagne sono basse e arrotondate perché...

- o si sono formate da poco.
- o sono sempre state così.
- o sono state erose (trasformate) dagli agenti atmosferici.

Unisci con una freccia i termini specifici al loro significato:

CIMA O VETTA

Massa spessa e compatta
di ghiaccio

VERSANTE

Punto più alto della montagna

VALLE

Fianco della montagna

GHIACCIAIO

Spazio pianeggiante compreso
fra montagne

ALTITUDINE

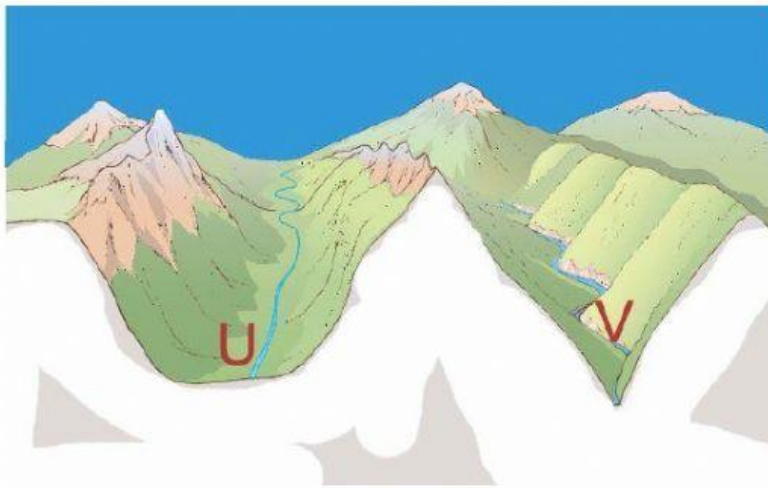
Rilievo che supera i 600 metri
di altitudine

MONTAGNA

Altezza della montagna partendo
dal livello del mare

PASSO O VALICO

Punto più basso tra più montagne,
dove è possibile passare



Osserva bene le immagini e scrivi accanto ad ogni affermazione “U” se si riferisce alla valle a U, “V” se si riferisce a quella a V

Sono le valli scavate dai ghiacciai

Hanno versanti (i lati della montagna) ripidi e fondovalle stretto

Lo scorrere di un fiume, nel corso di millenni, ha eroso il territorio

Hanno versanti (lati della montagna) dolci e scendono lentamente verso il fondovalle

Un antico ghiacciaio è scivolato verso il basso a causa del suo peso

Sono ampie (larghe) e spesso vi sorgono paesi

