

**Nama Peserta Didik :**

**Nomor Absen :**

**LK T3 ST1 PB5**



**Simaklah Video Pembelajaran berikut :**

**Lagu Indonesai Raya:**


**Lagu Mars PPK:**

**Isi Absennya ya :**

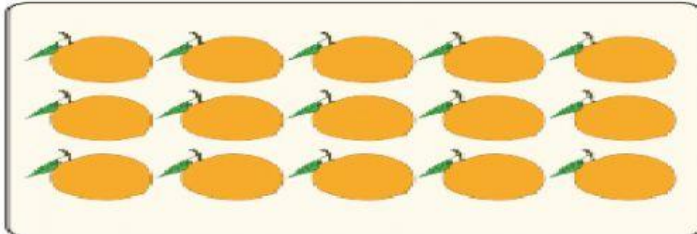
**Klik disini untuk isi absen ya**

1.


Pagi ini Siti ikut Ibu ke pasar. Di pasar Siti melihat sayuran dan buah-buahan. Siti berlatih menghitungnya. Ayo, bantu Siti menghitung buah-buahan dan sayuran berikut ini!




....




....



....



....



....

2.

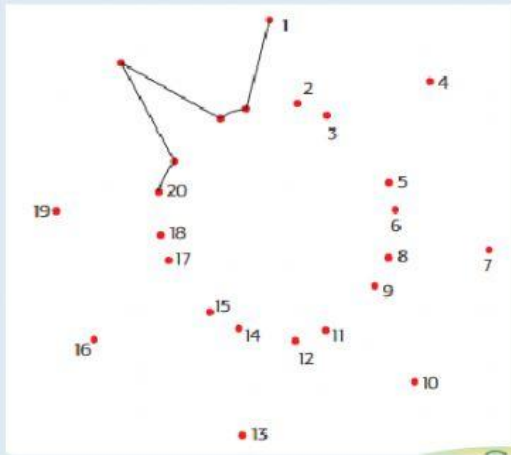
Perhatikan bilangan berikut ini.

20 15 13 18 14 12 17 11 16 19

Sekarang urutkan bilangan tersebut dari yang terkecil.

... ..

3. Untuk soal berikut, silahkan dikerjakan pada buku paket halaman 35.



4. Gambarlah benda yang banyaknya sesuai bilangan yang ditentukan!

<div data-bbox="427 860 536 913" style="border: 1px solid black; border-radius: 5px; padding: 2px; display: inline-block;">14</div> ↓	<div data-bbox="874 860 983 913" style="border: 1px solid black; border-radius: 5px; padding: 2px; display: inline-block;">12</div> ↓
<div data-bbox="266 922 679 1131" style="border: 1px solid black; height: 93px; width: 259px;"></div>	<div data-bbox="724 922 1137 1131" style="border: 1px solid black; height: 93px; width: 259px;"></div>
<div data-bbox="427 1173 536 1227" style="border: 1px solid black; border-radius: 5px; padding: 2px; display: inline-block;">15</div> ↓	<div data-bbox="874 1173 983 1227" style="border: 1px solid black; border-radius: 5px; padding: 2px; display: inline-block;">11</div> ↓
<div data-bbox="266 1236 679 1444" style="border: 1px solid black; height: 93px; width: 259px;"></div>	<div data-bbox="724 1236 1137 1444" style="border: 1px solid black; height: 93px; width: 259px;"></div>