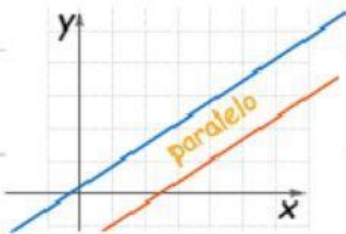



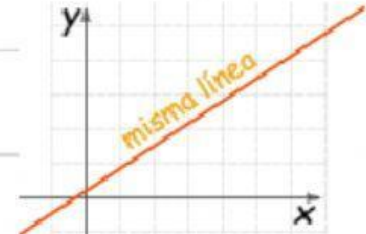
ACTIVIDAD 1

Método gráfico – Sistemas de ecuaciones

1) Observa los siguientes gráficos y determina la cantidad de soluciones del sistema de ecuaciones.







2) Resuelve el siguiente sistemas de ecuaciones. Completa los espacios faltantes.

- (1) $2x - y = 5$
- (2) $3x + y = 5$

1°

Despejar la variable y en cada ecuación

Ecuación (1):

$$y = \quad x$$

Ecuación (2):

$$y = \quad x$$

2°

Completa las siguientes tablas.

x	y	(x, y)
0		(,)
1		(,)
3		(,)

x	y	(x, y)
-1		(,)
1		(,)
3		(,)

3°

Construye el gráfico en tu cuaderno

4°

¿Cuál es la solución?

(,)