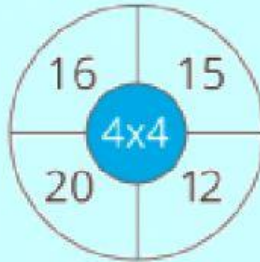


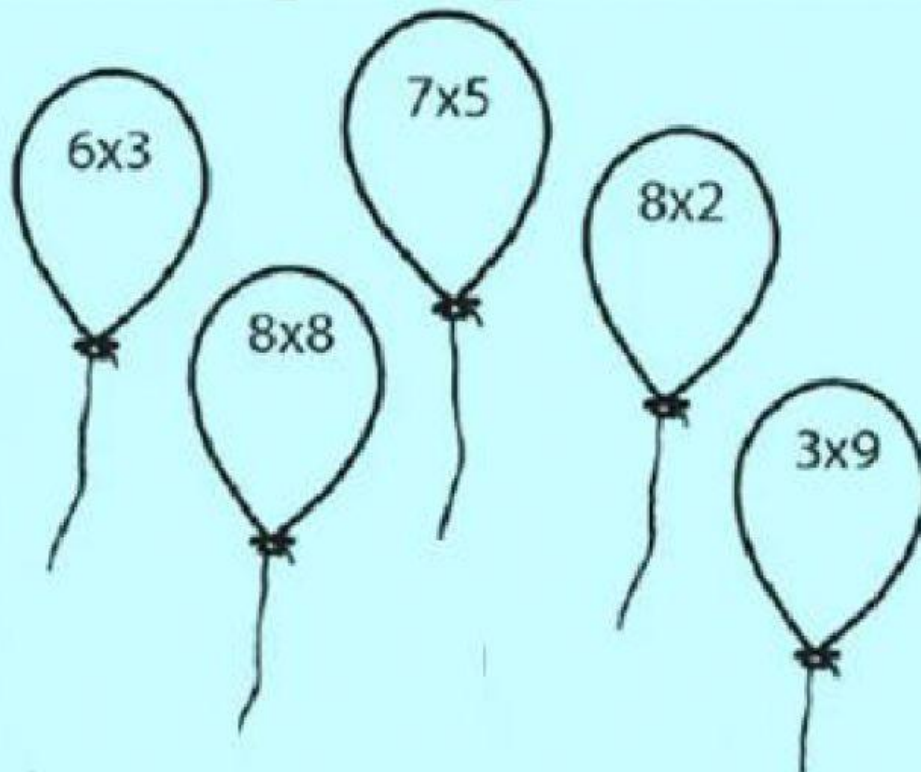
EVALUACIÓN SEMANAL DE MATEMÁTICA

NOMBRE Y APELLIDO _____

1. MARCA EL RESULTADO CORRECTO EN LAS SIGUIENTES MULTIPLICACIONES:











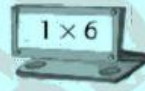




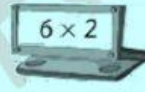


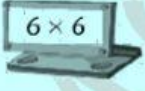
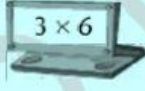
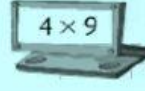

2. ESCRIBE EL RESULTADO DE LAS MULTIPLICACIONES DENTRO DE LOS GLOBOS.



3. MARCA LOS HELADOS QUE TENGAN LOS RESULTADOS DE LA TABLA DEL 7.



4. SELECCIONA LAS MULTIPLICACIONES QUE DEN COMO PRODUCTO EL NÚMERO QUE TIENE CADA NIÑA O NIÑO.

 24				
 16				
 12				
 36				

4. RESUELVE LAS SIGUIENTES MULTIPLICACIONES Y ESCRIBE EN UNA DE ELLAS LOS TÉRMINOS DE LA MULTIPLICACIÓN.

$\begin{array}{r} 540 \\ \times 5 \\ \hline \end{array}$	$\begin{array}{r} 634 \\ \times 3 \\ \hline \end{array}$	$\begin{array}{r} 550 \\ \times 9 \\ \hline \end{array}$	$\begin{array}{r} 484 \\ \times 8 \\ \hline \end{array}$
--	--	--	--