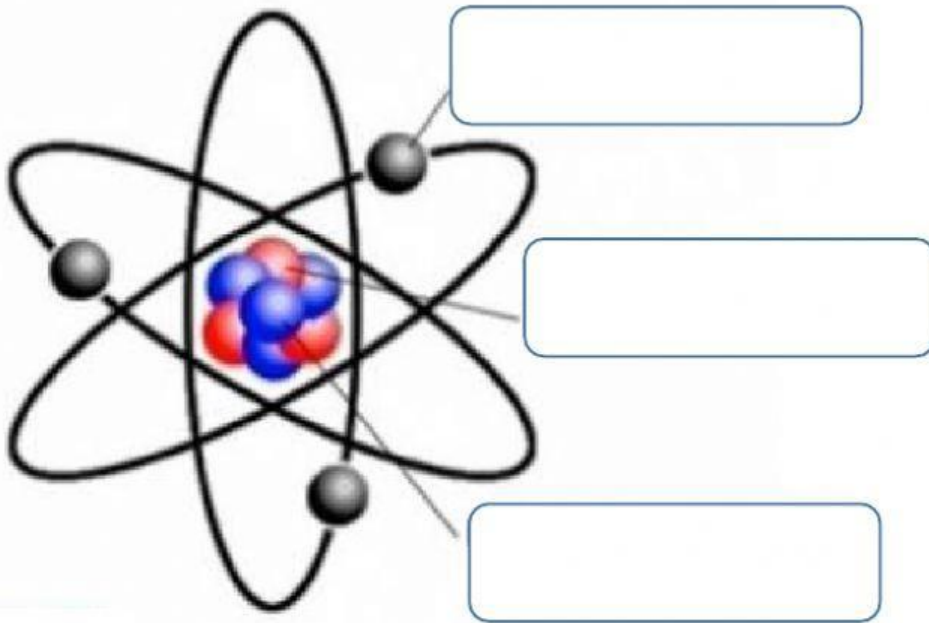




1. Completa

La materia es aquello que tiene _____ y

2. Completa las partes del átomo



3. Menciona las propiedades específicas de la materia



4. Une según corresponda

sustancia pura

sustancias puras que están
constituida por una misma clase
de átomos


elemento químico

sustancias puras que se originan
por combinación de dos o mas
elementos

compuesto

Tiene una composición fija

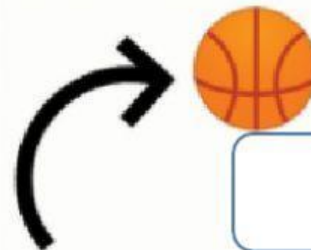
5. ¿Cómo se clasifican las mezclas?



6. Escribe los cuatro pasos de la separación de mezclas

7. Observa las imágenes y escribe el tipo escoge el tipo de movimiento





7. Menciona los tipos de maquinas simples
