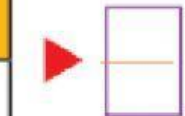



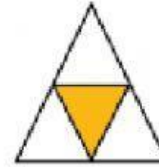
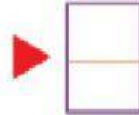





Paso corto de fracciones

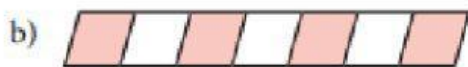
1.- Escribe la fracción que representa la región coloreada.



2.- Relaciona con una línea la fracción que representa la parte sombreada con su correspondiente expresión en palabras.



Cuatro séptimos



Dos cuartos



Cuatro sextos



Dos quintos

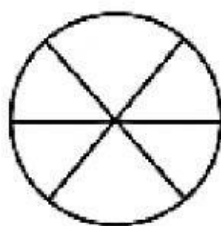


Dos séptimos

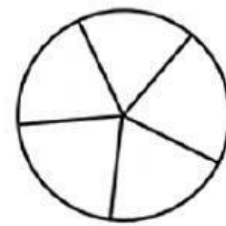
3.- Representa de forma gráfica las fracciones, para ello escribe un aspa en las partes que se indica.



$\frac{3}{5}$



$\frac{4}{6}$



$\frac{5}{8}$