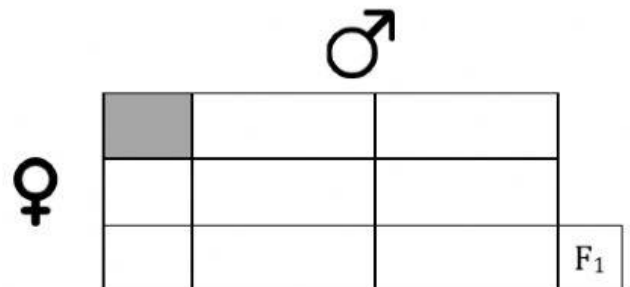
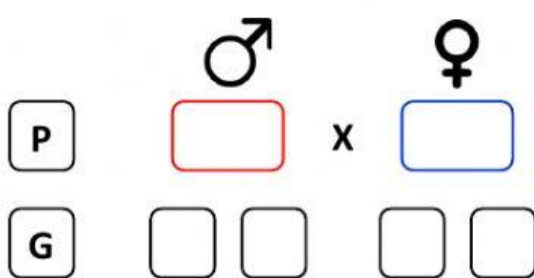
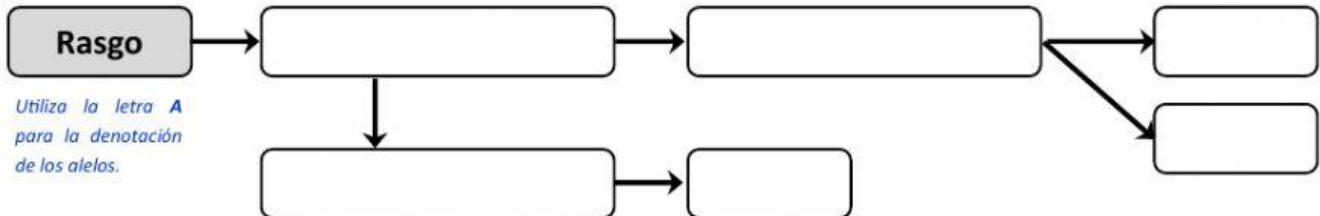


Año escolar	Área curricular	Grado	Unidad	Sesión
2021	Ciencia y Tecnología	55	03	2 – 3

Ejercicios de leyes de Mendel

Ejercicio 7: El genotipo de una planta de guisante, respecto al tamaño de tallo, es Aa. Si esta planta se autofecunda, ¿cuál será el genotipo y el fenotipo de su descendencia? Considera los datos del ejercicio anterior.



Respuestas	
Fenotipo de la descendencia	Planta de tallo alto
	Planta de tallo enano

Respuestas	
Genotipo de la descendencia	AA
	Aa
	aa