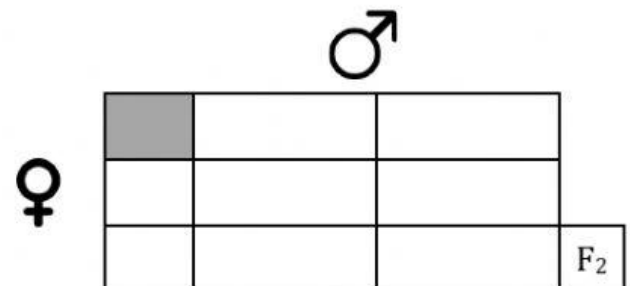
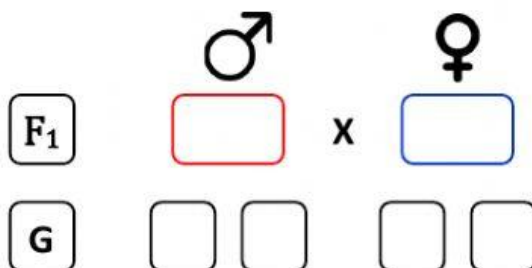
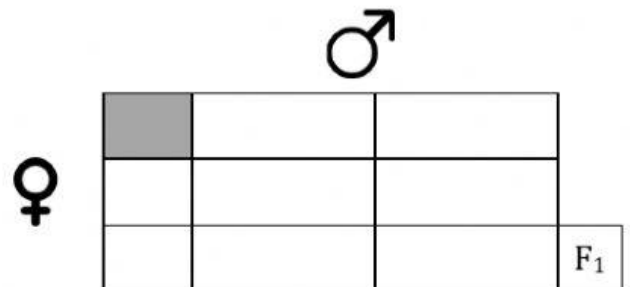
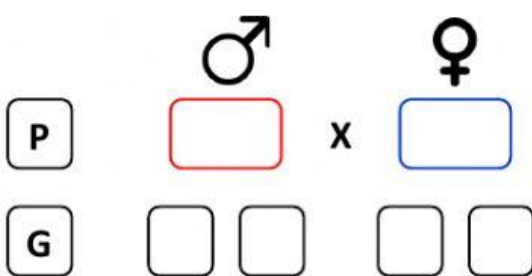
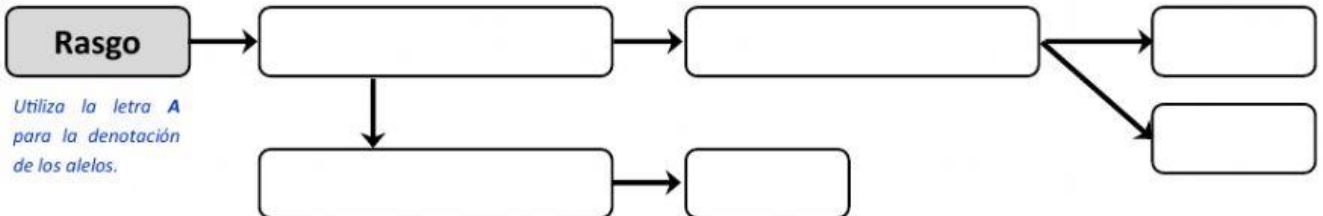


Año escolar	Área curricular	Grado	Unidad	Sesión
2021	Ciencia y Tecnología	55	03	2 – 3

### Ejercicios de leyes de Mendel

**Ejercicio 2:** Un cuy macho homocigoto negro se cruza con una hembra marrón. Si el color negro es dominante, ¿cuál es la probabilidad que la descendencia de  $F_1$  y de  $F_2$  tenga el pelaje marrón?



Respuestas	
Probabilidad de individuos con pelaje marrón en la $F_1$	
Probabilidad de individuos con pelaje marrón en la $F_2$	