

I. E. P. "ALEXANDER FLEMING"
"Educación en Valores con alto nivel académico"
PRACTICA DE MATEMÁTICA



NOMBRE: _____

1 Une la división y la multiplicación que están relacionadas.

$35 \div 5$

$48 \div 6$

$72 \div 8$

$55 \div 5$

$36 \div 6$

8×6

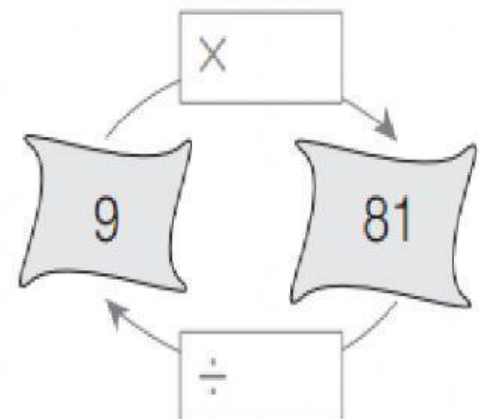
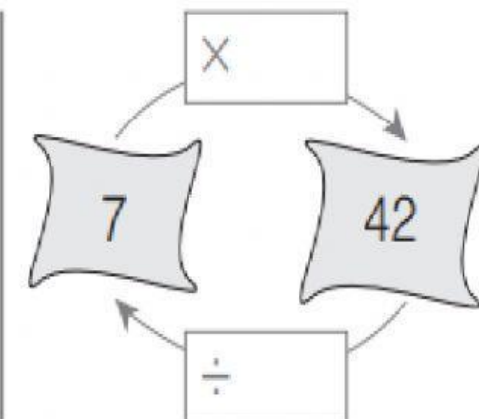
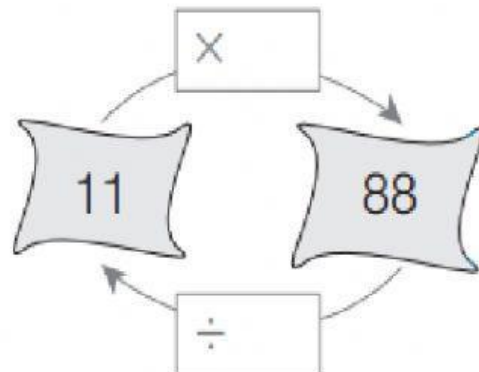
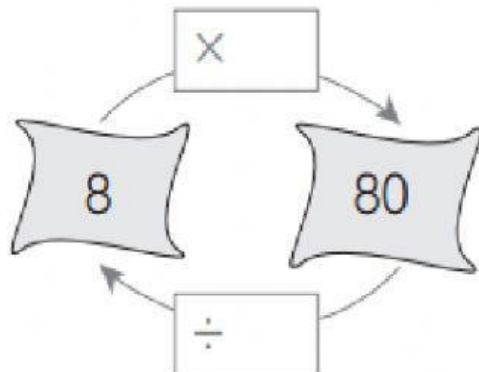
11×5

7×5

6×6

9×8

2 Identifica los términos que faltan y completa los esquemas. Observa el ejemplo.



3 . Resuelve las siguientes divisiones y luego identifica si es exacta o inexacta

$$\begin{array}{r} \overline{79 \div 2} \\ \square \square \square \square \square \end{array}$$

Blue box for remainder

$$\begin{array}{r} \overline{63 \div 3} \\ \square \square \square \square \square \end{array}$$

Blue box for remainder

$$\begin{array}{r} \overline{84 \div 5} \\ \square \square \square \square \square \end{array}$$

Blue box for remainder