



## TRABAJO PRACTICO DE SUCESIONES

**Nombre:**

INDICAR CUAL DE LAS SIGUIENTES SUCESIONES **NO** ES ARITMETICA

**16, 26, 36, 46, ...**

**16, 6, 13, 3, ...**

**-26, -36, - 46, -56, ...**

ESCRIBIR EL SEGUNDO TÉRMINO DE LA SUCESSION

**5,  $a_2$ , 21, 29, ...**

UBICAR LOS DOS SIGUIENTES TÉRMINOS DE LAS SUCESIONES  
ARITMÉTICAS:

44	75	77	74	85	45
54	55	43	46	66	32

**45, 55, 65, ...**

**11, 22, 33, ...**

**87, 76, 65, ...**

¿CUÁL ES LA DIFERENCIA DE ESTAS SUCESIONES?

**45, 55, 65, ...      d=**

**11, 22, 33, ...      d=**

**87, 76, 65, ...      d=**

TENIENDO EN CUENTA LA SIGUIENTE SUCESIÓN ELIGE LA OPCION PARA COMPLETAR

2, 5, 8, 11, 14, 17, 20, 23, ...


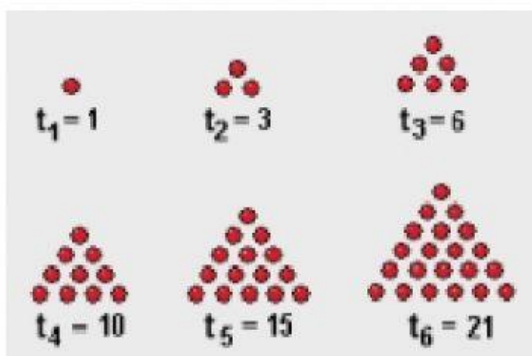

**d=**

**$a_4$ =**

**$a_8$ =**

**Termino general =**

Indicar cual/cuales de las siguientes son sucesiones aritméticas con igual diferencia






*Figura 1*



*Figura 2*



*Figura 3*



Profe Paula