



LKPD

SBdP 3.2 PH TEMA 2 SUBTEMA 1

NAMA :

KELAS :



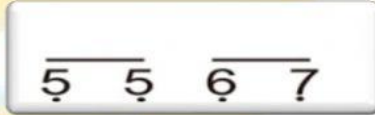
I. Pilihlah jawaban yang tepat!

1. Nada "re" jika dituliskan dalam notasi angka berupa angka
 - a. 1
 - b. 2
 - c. 3
 - d. 4
2. Nada yang tidak ada tanda titik di belakangnya dinyanyikan
 - a. panjang
 - b. pendek
 - c. pelan
 - d. lambat
3. Menyanyikan lagu harus sesuai tempo. Tempo adalah
 - a. bunyi yang berulang dengan teratur
 - b. keselarasan bunyi lagu
 - c. keras lembutnya lagu
 - d. cepat lambat lagu saat dinyanyikan
4. Tempo sedang dalam lagu disebut
 - a. adagio
 - b. moderato
 - c. presto
 - d. allegro





5. Perhatikan penggalan notasi berikut!



Nada pada penggalan notasi angka di atas dinyanyikan

- a. pendek
- b. panjang
- c. tinggi
- d. rendah

6. Cepat atau lambatnya lagu saat dinyanyikan disebut

- a. tempo lagu
- b. syair lagu
- c. ritme lagu
- d. melodi

7. Lagu "Menanam Jagung" dinyanyikan dengan tempo

- a. sangat cepat
- b. cepat
- c. sedang
- d. lambat

8. Pencipta lagu "Menanam Jagung" adalah

- a. W.R. Supratman
- b. Ibu Sud
- c. Maladi
- d. A.T. Mahmud





9. Tangga nada yang ke-5 yaitu

a. do

b. fa

c. sol

d. si

10. Lagu menanam jagung memiliki birama ...

a. 1/4

b. 3/4

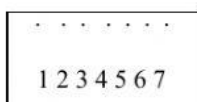
c. 4/4

d. 1/2

II. Pilihlah jawaban dibawah ini dengan tepat!

11. Birama 4/4 dalam lagu menunjukkan bahwa dalam satu birama memiliki ... ketukan

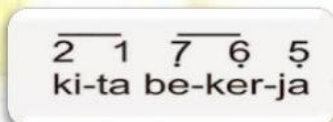
12.



Nada tersebut menunjukkan nada

13. Tanda $\overline{5\ 5}$ menunjukkan kedua nada dalam satu ketukan masing-masing memiliki ketukan

14.



Not angka pada lagu menanam jagung tersebut adalah

15. Beri pupuk supaya subur

Tanamkan benih dengan teratur

.....

Penggalan lagu di tersebut yang benar adalah

