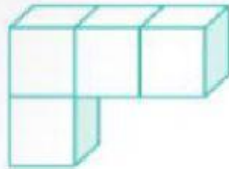




Conteo de Cubos

1. **Completa** los recuadros con la cantidad exacta de cubos. Y **responde** las preguntas correspondientes a cada uno.

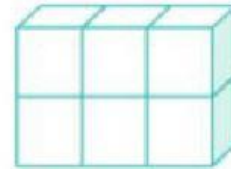
a. ¿Cuál es el doble de estos cubos?



=

Respt

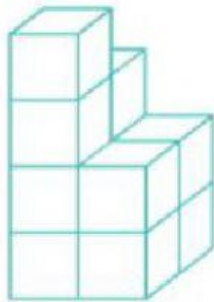
b. ¿Cuántas parejas de cubos hay?



=

Respt

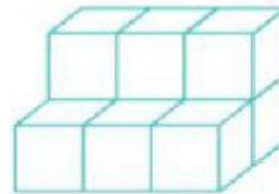
c. ¿Cuántos cubos faltan para una docena?



=

Respt

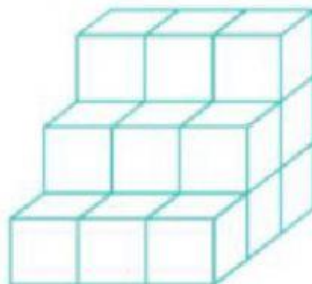
d. ¿Cuál es el triple de estos cubos?



=

Respt

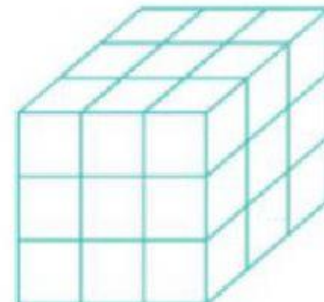
e. ¿Cuántos cubos sobran para tener una docena?



=

Respt

f. ¿Cuántos cubos sobran para tener dos docenas?



=

Respt