

Sectores de la economía y sus actividades en el distrito y la provincia

Nombre: _____ Fecha: 18-8-2021

Traza una línea con la imagen correcta:

Ganadería



Selvicultura



Pesca



Minería















Agricultura



II Parte Mira estas fotos y escribe a que sector pertenecen:



Escribe a que sector pertenece cada actividad.

 Educación	Sector terciario	 Ganadería		 Fábrica	
 Salud		 Textiles		 Comercio	
 Pesca		 Ganado		 Agricultura	
 Transporte		 Industria		 Seguridad	