



REKA BENTUK INDUSTRI

Soalan/ Arahan : Berdasarkan gambar perabot yang diberi, pilih gambar-gambar **pelan**, **pandangan hadapan** dan **pandangan sisi** bagi perabot-perabot di bawah dengan betul. Tarikkan gambar dari pilihan jawapan di bawah.

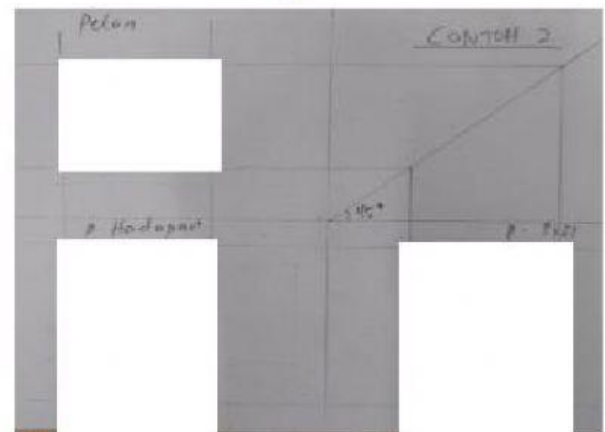
PILIHAN JAWAPAN:



PERABOT 1




PERABOT 2



PILIHAN JAWAPAN:



PERABOT 3



PERABOT 4

