

Centímetro y metro

Observa y escribe cuánto miden estos objetos.



Une.



70 m



31 cm


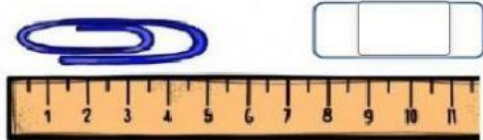
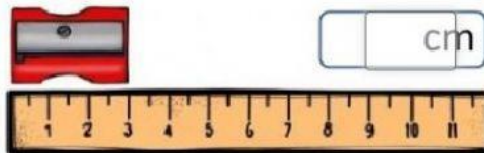


12 cm



22 m

Observa la regla y escribe cuánto mide cada objeto.



Largo: cm
Ancho: cm

Piensa cuánto mide y une con la medida que creas que tiene.

3 cm

40 cm

15 cm



Elige qué instrumento de medida utilizarías para medir estos objetos y en qué unidad de medida lo harías.

