

tabel perkalian 4

Nama: _____




Latihan 1:

Buat garis yang menghubungkan perhitungan perkalian dengan hasilnya yang sesuai.

| | | |
|---------------|----|----|
| 2×4 | 32 | 24 |
| 8×4 | 36 | 8 |
| 1×4 | 28 | 16 |
| 10×4 | 20 | 12 |
| 5×4 | 4 | 40 |
| 6×4 | | |
| 7×4 | | |
| 3×4 | | |
| 9×4 | | |
| 4×4 | | |

Latihan 2:

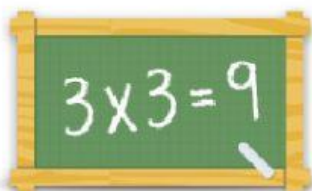
Isi angka yang tidak ada.

- a)  $\times 4 = 28$ b)  $\times 4 = 32$ c)  $\times 4 = 24$

Latihan 3:

Isi hasilnya dengan benar.

- a) $4 \times 4 = \underline{\quad}$ b) $8 \times 4 = \underline{\quad}$ c) $10 \times 4 = \underline{\quad}$
d) $2 \times 4 = \underline{\quad}$ e) $1 \times 4 = \underline{\quad}$ f) $5 \times 4 = \underline{\quad}$



Untuk lebih banyak lembar kerja, permainan, dan latihan:
www.tabelperkalian.com