

# MATEMÁTICAS TEMA 8. NÚMEROS DECIMALES

## CONCEPTOS

1. Completa la tabla.

Número	Parte entera	Parte decimal	Lectura
68,21			
90,02			
			Cero coma treinta y siete
			Cuarenta y dos coma ochenta y tres

2. Ordena de menor a mayor los siguientes números decimales.

A) 54,37


B) 54,39

C) 90,88

D) 90,38

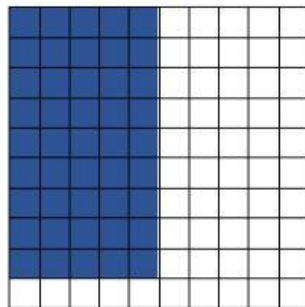
3. Observa los dibujos y averigua qué representa la parte coloreada. Une.

a)




50/100  
0,50

b)



36/100  
0,36

c)



45/100  
0,45

4. Ordena los precios de mayor a menor

5,64 €

325 céntimos

4€ 57 céntimos

465 céntimos

..... < ..... < ..... < .....