


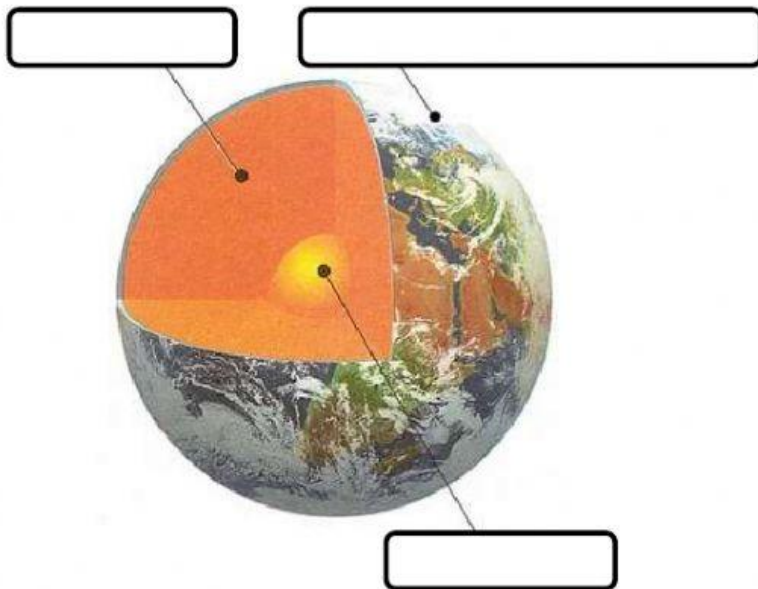


1- Ligue corretamente as camadas da Terra com suas características.

Camadas da Terra	Características
1) Crosta Terrestre	 Camada que se encontra no centro da Terra.
2) Manto	 Camada que forma a superfície da Terra.
3) Núcleo	 Camada pastosa da Terra, formada pelo magma, com alta temperatura.

2- Coloque o nome das camadas da Terra no local certo.



Crosta Terrestre
Manto
Núcleo