



LEMBAR KERJA PESERTA DIDIK (LKPD)

Satuan Pendidikan : SDN Purworejo Surakarta

Tema : 8. Daerah tempat tinggalku

Subtema : 2. Keunikan Daerah Tempat Tinggalku

Kelas : IV (Empat)/ 2 (dua)


Alokasi waktu : 20 menit

Muatan pelajaran IPA KD 3.4
Menghubungkan gaya dengan gerak pada
peristiwa di lingkungan sekitar.

NAMA :

NO ABSEN :

A. Perhatikan video di bawah ini dengan cara mengklik video !



B. Tuliskan informasi yang kamu dapatkan dari video yang kamu lihat dengan cara mengklik kotak di bawah ini !

C. Pilihlah jawaban yang paling tepat dengan cara mengklik kotak jawaban lalu memilih jawaban yang paling tepat !



Gambar di samping merupakan contoh pengaruh gaya terhadap benda yaitu

D. Pilihlah jawaban yang paling tepat dengan cara mengklik jawaban yang paling tepat !

1. Gerakan mendorong atau menarik yang menyebabkan benda bergerak disebut

a. Gaya

c. Gerak

b. Usaha

d. Tenaga


2. Perpindahan kedudukan suatu benda terhadap benda lainnya, baik perpindahan kedudukan yang mendekati

a. Tenaga

c. Energi

b. Gerak

d. Gaya

E. Berikan tanda centang pada jawaban yang tepat dengan cara mengklik tanda  !

Di bawah ini manakah yang termasuk pengaruh gaya terhadap benda !

Gaya mengubah bentuk benda



Gaya mengubah arah benda



Gaya mengubah benda bergerak menjadi diam



Gaya menambah berat benda



Gaya mengubah benda diam menjadi bergerak



Gaya mengubah kecepatan benda



F. Pasangkan antara contoh gambar dan pengaruh gaya terhadap benda dengan cara menarik garis !



MEMBUKA DAN MENUTUP PINTU



Gaya mengubah benda bergerak menjadi diam



BUS MELAJU LALU BERHENTI



Gaya mengubah bentuk benda




MEMBUAT MAINAN DARI PLASTISIN



Gaya mengubah benda diam menjadi bergerak

G. Pasangkan gambar dengan pernyataan yang paling tepat !

Cara menjawab : tekan gambar lalu geser pada kotak yang tersedia lalu lepas

Gaya mengubah bentuk benda		
Gaya mengubah arah benda	