



Latihan Penilaian Harian

Kompetensi 4C
Berpikir kritis

Nilai Karakter
Tanggung jawab

PPKn (KD 3.1)

I. Yuk kita kerjakan dengan memberi tanda silang (x) huruf di depan jawaban yang tepat!

1. Menghormati Bapak/Ibu Guru termasuk perilaku sesuai nilai-nilai Pancasila di lingkungan
 - a. desa
 - b. rumah
 - c. sekolah
 - d. masyarakat
2. Pemilihan ketua kelas sesuai dengan nilai-nilai Pancasila dapat dilakukan melalui
 - a. musyawarah atau voting
 - b. penunjukan langsung
 - c. perdebatan
 - d. penugasan
3. Pengambilan keputusan bersama di rumah dipimpin oleh ayah sebagai
 - a. pengatur rumah tangga
 - b. kepala keluarga
 - c. pimpinan
 - d. kerabat
4. Kebulatan suara atau pendapat dari peserta rapat disebut
 - a. debat
 - b. voting
 - c. mufakat
 - d. aklamasi
5. Pemilihan presiden dan wakil presiden secara langsung di Indonesia dilakukan melalui
 - a. voting
 - b. pilkada
 - c. pilpres
 - d. aklamasi
6. Sikap sesuai dengan sila pertama adalah
 - a. musyawarah
 - b. memberi bantuan teman
 - c. merayakan hari besar agama
 - d. kerja bakti membersihkan desa

7.



Sumber: <https://cdn-image-liveworks.com/wp-content/uploads/2018/11/liveworks-images-1-10.jpg>

HOTS

Gambar cerminan sikap sesuai nilai-nilai sila

- kedua dan ketiga
 - ketiga dan kelima
 - pertama dan kedua
 - keempat dan kelima
8. Jika ada teman yang sedang sakit, sikap kita sebaiknya
- membiarkan
 - mencari tahu
 - acuh tak acuh
 - menjenguk

9. Temanmu minta izin untuk beribadah saat berada di rumahmu. Sikap yang perlu dikembangkan sesuai nilai-nilai Pancasila adalah

- memberikan tempat dan waktu secukupnya untuk beribadah **HOTS**
 - disuruh beribadah di tempat lain
 - menyuruh pulang ke rumahnya
 - meminta menunda ibadahnya
10. Tidak memaksakan pendapat saat diskusi mencerminkan pengamalan sila
- pertama dan kedua **HOTS**
 - kedua dan ketiga
 - ketiga dan keempat
 - keempat dan kelima

I. Yuk kita kerjakan dengan memberi tanda silang (x) huruf di depan jawaban yang tepat!

Untuk soal nomor 1 dan 2, baca teks berikut!

Angkutan penyeberangan sungai banyak terdapat di Kalimantan. Jumlahnya bahkan mencapai ratusan. Angkutan ini terdapat di sepanjang sungai besar, seperti Sungai Kapuas, Sungai Kahayan, Sungai Martapura, dan Sungai Barito. Salah satu angkutan penyeberangan di Sungai Kahayan, Provinsi Kalimantan Tengah berada di Desa Sepang Kota dan Desa Sepang Simin. Angkutan penyeberangan ini dikelola perorangan dan sangat membantu warga sekitar beraktivitas. Apalagi setelah beroperasi perusahaan tambang emas di wilayah Desa Sepang Simin.

Sumber: dikutip dari <https://www.gatra.com/detail/news/357498-Angkutan-Penyeberangan-Sungai-di-Kalimantan-Tengah-Tidak-Berkeselamatan>

1. Ide pokok paragraf terdapat pada kalimat
 - a. pertama
 - b. kedua
 - c. ketiga
 - d. keempat**HOTS**
2. Dilihat dari gagasan utamanya, paragraf tersebut termasuk
 - a. ineratif
 - b. deduktif
 - c. induktif
 - d. campuran**HOTS**

Baca teks bacaan berikut untuk soal nomor 3-10!

Osteoporosis disebabkan oleh penurunan kepadatan tulang. Hal ini dipengaruhi oleh kemampuan tubuh untuk melakukan regenerasi tulang, yaitu proses penggantian sel-sel tulang yang lama dan rapuh menjadi sel-sel tulang yang baru. Normalnya, kemampuan regenerasi ini akan menurun seiring bertambahnya usia.

Ada beberapa faktor yang dapat meningkatkan risiko terjadinya osteoporosis. Sebagian faktor risiko ini tidak bisa dicegah atau dikendalikan, sebagian lagi bisa dicegah atau ditangani. Faktor yang tidak dapat dikendalikan, yaitu usia, jenis kelamin, dan keturunan. Adapun faktor yang dapat dikendalikan, antara lain penurunan hormon, gaya hidup, gangguan makanan, kurangnya asupan vitamin D, kebiasaan merokok, dan gangguan pencernaan.


Osteoporosis terjadi secara perlahan selama bertahun-tahun. Kondisi ini umumnya baru bisa diketahui setelah seseorang mengalami keretakan tulang. Keretakan tulang umumnya terjadi pada pergelangan tangan, pinggul, dan tulang belakang. Dalam kasus osteoporosis yang parah, batuk atau bersin ringan bisa menyebabkan keretakan tulang rusuk atau tulang belakang.

Sumber: dikutip dari <https://www.alodokter.com/osteoporosis/penyebab>

3. Kalimat penjelas pada paragraf pertama berada pada kalimat
 - a. 1 dan 2
 - b. 1 dan 3
 - c. 2 dan 3
 - d. 1**HOTS**
4. Gagasan utama paragraf pertama terdapat pada kalimat
 - a. 1 dan 2
 - b. 1 dan 3
 - c. 2 dan 3
 - d. 1**HOTS**
5. Paragraf pertama termasuk jenis
 - a. ineratif
 - b. induktif
 - c. deduktif
 - d. campuran

6. Gagasan utama paragraf kedua berada di kalimat
- a. 1
 - b. 2
 - c. 3
 - d. 4
7. Sebagian faktor risiko ini tidak bisa dicegah atau dikendalikan, sebagian lagi bisa dicegah atau ditangani pada paragraf kedua, merupakan bagian dari kalimat
- a. utama
 - b. penjelas
 - c. penutup
 - d. pembuka
8. Gagasan utama paragraf ketiga **HOTS** terdapat pada kalimat
- a. Osteoporosis terjadi secara perlahan selama bertahun-tahun.
 - b. Kondisi ini umumnya baru bisa diketahui setelah seseorang mengalami keretakan tulang.
 - c. Jika mengalami osteoporosis, kepadatan tulang akan berkurang dan rentan mengalami keretakan tulang.
 - d. Keretakan tulang umumnya terjadi pada pergelangan tangan, pinggul, dan tulang belakang.
9. Jika dilihat letak gagasan utamanya, paragraf ketiga termasuk jenis
- a. deduktif
 - b. induktif
 - c. ineratif
 - d. campuran
10. Ide pokok pada paragraf 1, 2, dan 3 terdapat pada kalimat
- a. pertama
 - b. kedua
 - c. ketiga
 - d. keempat

I. Yuk kita kerjakan dengan memberi tanda silang (x) huruf di depan jawaban yang tepat!


1. Kelainan akibat patah tulang disebut
 - a. osteoporosis
 - b. fraktura
 - c. tetanus
 - d. fisura
2. Pernyataan:
 - (1) tulang belakang melengkung,
 - (2) posisi kepala tertarik ke belakang.
 Pernyataan tersebut ciri dari kelainan tulang, yaitu
 - a. skoliosis
 - b. lordosis
 - c. kifosis
 - d. fisura
3.  Kelainan tulang pada gambar adalah
 - a. skoliosis
 - b. lordosis
 - c. tetanus
 - d. kifosis
4. Skoliosis salah satu kelainan tulang belakang. Kelainan ini dicirikan dengan bentuk tulang belakang bengkok membentuk huruf
 - a. S
 - b. T
 - c. C
 - d. E
5. Pengeroposan tulang biasanya terjadi pada seseorang yang berusia
 - a. muda
 - b. lanjut
 - c. balita
 - d. remaja
6. Kelainan otot lengan membesar, biasanya karena
 - a. latihan beban yang berat dan terus-menerus
 - b. terlalu banyak asupan vitamin D
 - c. terlalu banyak makan
 - d. kurang gizi
7. Atrofi terjadi pada otot yang terserang penyakit
 - a. poliomielitis
 - b. tifus
 - c. liver
 - d. TBC
8. Gangguan otot ini sering terjadi saat bangun tidur. Otot leher kaku dan berasa sakit jika digerakkan ke kiri dan kanan. Gangguan ini disebut
 - a. tortikolis
 - b. tetanus
 - c. lordosis
 - d. kram
9. Kelainan atau gangguan otot karena infeksi bakteri *Clostridium tetani* adalah
 - a. stiff
 - b. atrofi
 - c. tetanus
 - d. hipertrofi
10. Agar terhindar dari osteoporosis, kita harus mengonsumsi makanan dan minuman yang banyak mengandung
 - a. gula
 - b. lemak
 - c. protein
 - d. kalsium

I. Yuk kita kerjakan dengan memberi tanda silang (x) huruf di depan jawaban yang tepat!

1. Berikut kekayaan alam di perairan laut berupa nonhayati adalah
 - a. ikan
 - b. rumput laut
 - c. terumbu karang
 - d. minyak dan gas bumi

2. Pulau satu dengan pulau lain di wilayah Indonesia disatukan oleh
 - a. sungai
 - b. danau
 - c. rawa
 - d. laut

3. Berikut sumber daya alam hayati yang terdapat di perairan laut adalah
 - a. ikan dan rumput laut
 - b. rotan dan pinus
 - c. karet dan ikan
 - d. jati dan ikan




Sumber: <https://img.gesun.id/img/content/2017/12/13/10/kesejahteraan-nelayan-pilar-utama-poros-maritim-dLdsT1bA7H.jpg>

Mata pencaharian seperti gambar banyak ditekuni penduduk di

- a. pegunungan
- b. dataran tinggi
- c. pesisir pantai
- d. dataran rendah

HOTS

5. Tari kecak merupakan budaya asli dari
 - a. Jawa Timur
 - b. Gorontalo
 - c. Jambi
 - d. Bali



Sumber: <https://blog.tripcetera.com/id/wp-content/uploads/2019/06/rumah-gadang.jpg>

Identitas budaya pada gambar berasal dari

HOTS

- a. Jambi
- b. Lampung
- c. Sumatra Barat
- d. Sumatra Utara

7. Transportasi udara dianggap paling efisien dan efektif menjangkau berbagai wilayah di Indonesia yang berupa kepulauan. Sarana pendukung transportasi udara ini adalah

- a. stasiun
- b. terminal
- c. pelabuhan
- d. bandar udara

HOTS

8. Pelabuhan Tanjung Priok berada di Provinsi

- a. Jawa Barat
- b. Jawa Timur
- c. Jawa Tengah
- d. DKI Jakarta

9. Bandara Soekarno-Hatta berada di Provinsi
- a. Banten
 - b. DKI Jakarta
 - c. Jawa Barat
 - d. Jawa Tengah
10. Islam, Kristen, Katolik, Hindu, Buddha, dan Khonghucu merupakan keragaman dalam hal ...
- a. religi
 - b. bahasa
 - c. budaya
 - d. kesenian

I. Yuk kita kerjakan dengan memberi tanda silang (x) huruf di depan jawaban yang tepat!

- Komik disajikan dalam bentuk
 - suara
 - gerakan
 - gambar bergerak
 - gambar tidak bergerak
- Komik biasanya menyajikan gambar dan cerita yang sifatnya
 - humor
 - serius
 - ejekan
 - sindiran

2.



Sumber: <https://cf.shopee.co.id/file/1f4cb7fbc632a82565bd0943b48f1414>

Cerita gambar dikemas dalam bentuk

- majalah
- novel
- komik
- koran

HOTS

- Gambar komik biasanya dilengkapi.... untuk menyampaikan isi cerita.

- teks
- lagu
- gerakan
- keterangan

- Teks cerita pada komik disampaikan secara

HOTS

- langsung
- panjang lebar
- lugas dan jelas
- tidak langsung

- Isi cerita pada komik menggunakan bahasa

- baku
- Inggris
- sehari-hari
- internasional

- Kata *komik* berasal dari *komik* yang berarti

- bercanda
- jenaka
- santai
- lugas

8. Komik hadir untuk menyampaikan

- a. cerita
- b. berita
- c. impian
- d. candaan

9. Komik menyampaikan cerita melalui

- a. gambar dan teks
- b. gambar saja
- c. teks saja
- d. suara

HOTS

10. Humor dalam komik disajikan secara lugas agar

- a. hemat tempat
- b. menarik pembaca
- c. mempermudah tata letak
- d. mudah dipahami pembaca