



Actividades:

1. Completo los números que faltan.

0	1		3			
	8				12	
		16				20
		23	24			
	29					34
35			38	39		
42					47	

2. Resuelvo las siguientes sumas y restas:

$$5 + \text{blue cross} = \square$$

$$4 - \text{red smiley} = \square$$

$$7 + \text{blue cross} = \square$$


$$6 - \text{red smiley} = \square$$

3. Ubico las siguientes cantidades en la caja de valores.


9
1 9
2 6
4 0
2

D	U


4. Escribo el antecesor y sucesor de las siguientes cantidades.




	40		
--	----	--	--




	48		
--	----	--	--




	44		
--	----	--	--



	47		
--	----	--	--



	42		
--	----	--	--



	46		
--	----	--	--