

Distancia entre dos puntos

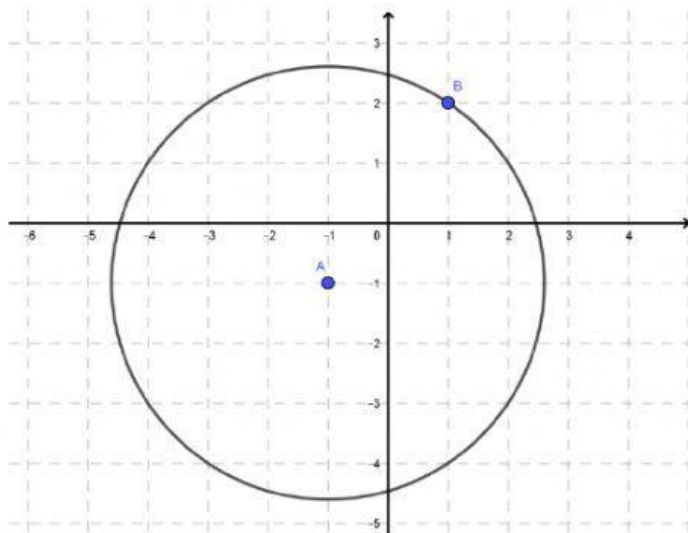


Indicación: resuelve los siguientes problemas de distancia entre dos puntos colocando tu respuesta en decimales y sin aproximar, elige una opción de respuesta dando clic en la opción que consideres correcta. Puedes apoyarte del siguiente video.



1) ¿Cuál es la longitud del siguiente segmento de recta?	
	A) 1.41
	B) 4.89
	C) 7.07
	D) 8.60

2) ¿Cuál es el radio de la siguiente circunferencia?



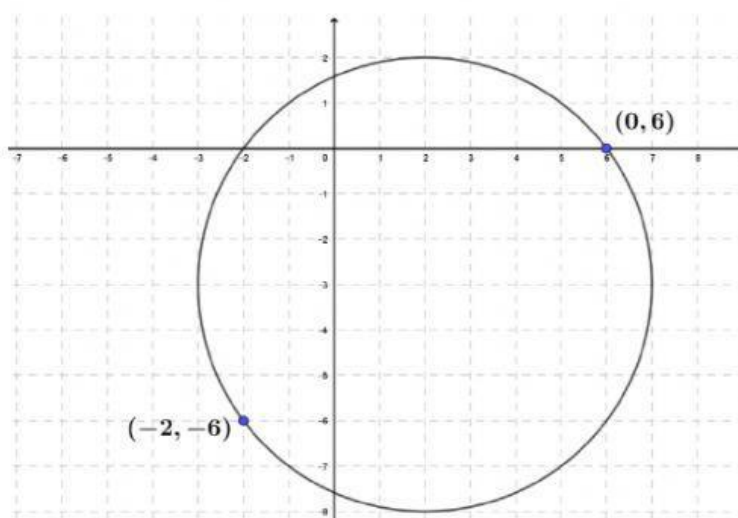
A) 2.23

B) 3

C) 3.60

D) 4.24

3) ¿Cuál es el radio de la siguiente circunferencia?



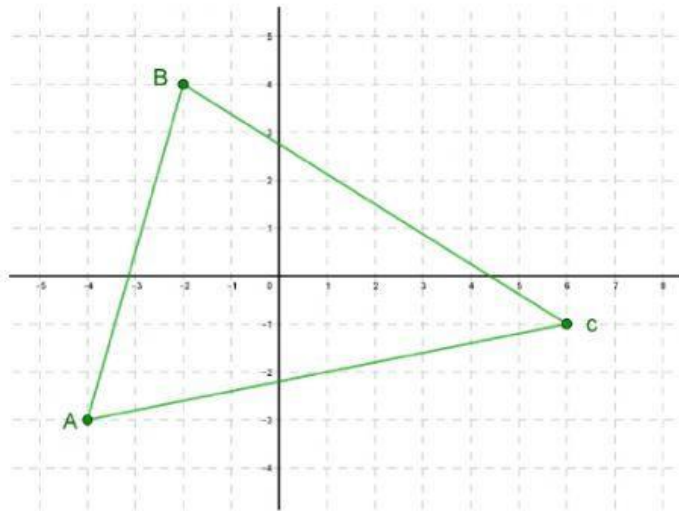
A) 12.64

B) 12.16

C) 10

D) 7.21

4) ¿Cuál es el perímetro del siguiente triángulo? (debes escribir los valores de raíces cuadradas sin aproximar y tomar una centésima, o un decimal)



A) 20

B) 20.8

C) 27.3

D) 28.4