



## LATIHAN SOAL MATEMATIKA KELAS 1

### (Mengurutkan Banyak Benda)




Nama :

Kelas :

Nomor Presensi :




**Pilihlah satu jawaban yang benar!**

1. Urutan banyak benda dari yang **paling sedikit** adalah ....

A 	B 	C 
---	---	---




- a. A, B, C
- b. B, A, C
- c. C, B, A

2. Urutan lambang bilangan dari yang **paling sedikit ke banyak** adalah ...

A 	B 	C 
--	--	--


- a. 6, 4, 9
- b. 4, 6, 9
- c. 9, 4, 6

3. Urutan banyak benda dari yang **paling banyak** adalah ....

A 	B 	C 
--	--	--

- a. C, B, A
- b. A, C, B
- c. B, C, A

4. Urutan lambang bilangan dari yang **paling banyak ke sedikit** adalah ...



- a. 10, 7, 3
- b. 3, 10, 7
- c. 7, 10, 3

5. Gambar di bawah ini yang mengandung orang paling sedikit adalah ....



**Alhamdulillah aku bisa!!!**