

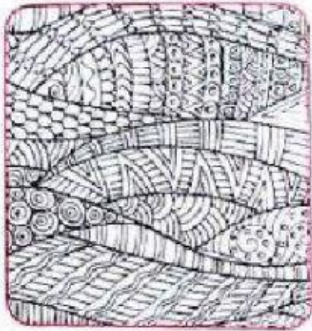


# Praktis Formatif

Bidang **Seni Visual**

Tandakan BETUL atau SALAH pada gambar yang mengaplikasikan prinsip kepelbagaian.



2 Kenal pasti ciri-ciri kepelbagaian yang wujud pada gambar berikut. TP2

Kepelbagaian warna

Kepelbagaian corak

Kepelbagaian rupa bentuk

Kepelbagaian garisan

Kepelbagaian reka bentuk

Kepelbagaian saiz



(a)



(b)



(c)



(d)



(e)



(f)